

Вопрос 1


В каком случае водитель совершит вынужденную остановку?

1. Остановившись непосредственно перед пешеходным переходом, чтобы уступить дорогу пешеходу.
2. Остановившись на проезжей части из-за технической неисправности транспортного средства.
3. В обоих перечисленных случаях.

Вопрос 2

Разрешен ли вам съезд на дорогу с грунтовым покрытием?

1. Разрешен.
2. Разрешен только при технической неисправности транспортного средства.
3. Запрещен.



Вопрос 3

Можно ли вам остановиться в указанном месте для посадки пассажира?

1. Можно.
2. Можно, если вы управляете такси.
3. Нельзя.



Вопрос 4

Какие из указанных знаков запрещают движение водителям мопедов?

1. Только А.
2. Только Б.
3. В и Г.
4. Все.



А



Б



В




Г

Вопрос 5

Вы намерены повернуть налево. Где следует остановиться, чтобы уступить дорогу легковому автомобилю?

1. Перед знаком.
2. Перед перекрестком у линии разметки.
3. На перекрестке перед прерывистой линией разметки.
4. В любом месте по усмотрению водителя.



Вопрос 6

Что означает мигание зеленого сигнала светофора?

1. Предупреждает о неисправности светофора.
2. Разрешает движение и информирует о том, что вскоре будет включен запрещающий сигнал.
3. Запрещает дальнейшее движение.

Вопрос 7

Водитель обязан подавать сигналы световыми указателями поворота (рукой):

1. Перед началом движения или перестроением.
2. Перед поворотом или разворотом.
3. Перед остановкой.
4. Во всех перечисленных случаях.

**Вопрос 8**

Как вам следует поступить при повороте направо?

1. Перестроиться на правую полосу, затем осуществить поворот.
2. Продолжить движение по второй полосе до перекрестка, затем повернуть.
3. Возможны оба варианта действий.

**Вопрос 9**

По какой траектории вам разрешено выполнить разворот?

1. Только по А.
2. Только по Б.
3. По любой из указанных.

**Вопрос 10**

С какой скоростью вы можете продолжить движение вне населенного пункта по левой полосе на легковом автомобиле?

1. Не более 50 км/ч.
2. Не менее 50 и не более 70 км/ч.
3. Не менее 50 и не более 90 км/ч.

Вопрос 11


Можно ли водителю легкового автомобиля выполнить опережение грузовых автомобилей вне населенного пункта по такой траектории?

1. Можно.
2. Можно, если скорость грузовых автомобилей менее 30 км/ч.
3. Нельзя.

**Вопрос 12**

В каком случае водителю разрешается поставить автомобиль на стоянку в указанном месте?

1. Только если расстояние до сплошной линии разметки — не менее 3 м.
2. Только если расстояние до края пересекаемой проезжей части — не менее 5 м.
3. При соблюдении обоих перечисленных условий.

**Вопрос 13**

При повороте направо вы должны уступить дорогу:

1. Только велосипедисту.
2. Только пешеходам.
3. Пешеходам и велосипедисту.
4. Никому.

**Вопрос 14**


Вы намерены проехать перекресток в прямом направлении. Кому следует уступить дорогу?


1. Обоим трамваям.
2. Только трамваю А.
3. Только трамваю Б.
4. Никому.

**Вопрос 15**

Кому вы обязаны уступить дорогу при повороте налево?

1. Только автобусу.
2. Только легковому автомобилю.
3. Никому.



**Вопрос 16**

С какой максимальной скоростью можно продолжить движение за знаком?

1. 60 км/ч.
2. 50 км/ч.
3. 30 км/ч.
4. 20 км/ч.

Вопрос 17

Для перевозки людей на мотоцикле водитель должен иметь водительское удостоверение на право управления транспортными средствами:

1. Категории «А» или подкатегории «А1».
2. Любой категории или подкатегории в течение 2 и более лет.
3. Только категории «А» или подкатегории «А1» в течение 2 и более лет.

Вопрос 18

При какой неисправности разрешается эксплуатация транспортного средства?

1. Не работают пробки топливных баков.
2. Не работает механизм регулировки положения сиденья водителя.
3. Не работают устройства обогрева и обдува стекол.
4. Не работает стеклоподъемник.

Вопрос 19

В случае, когда правые колеса автомобиля наезжают на неукрепленную влажную обочину, рекомендуется:

1. Затормозить и полностью остановиться.
2. Затормозить и плавно направить автомобиль на проезжую часть.
3. Не прибегая к торможению, плавно направить автомобиль на проезжую часть.

Вопрос 20

Что понимается под временем реакции водителя?

1. Время с момента обнаружения водителем опасности до полной остановки транспортного средства.
2. Время с момента обнаружения водителем опасности до начала принятия мер по ее избежанию.
3. Время, необходимое для переноса ноги с педали управления подачей топлива на педаль тормоза.

Вопрос 1

Под вынужденной остановкой подразумевается прекращение движения транспортного средства из-за его технической неисправности, опасности, создаваемой перевозимым грузом, внезапным ухудшением состояния водителя (или пассажира), а также появлением препятствия на дороге. Остановка, связанная с необходимостью выполнения требования уступить дорогу, не рассматривается как вынужденная (п. 1.2 ПДД). Правильный ответ — 2.

Вопрос 2

Знаки 1.11.2 «Опасный поворот» и 1.34.2 «Направление поворота» указывают направление движения на закруглениях дороги малого радиуса с ограниченной видимостью, или, как их называют, закрытых поворотах. Эти знаки не ограничивают возможность съезда с дороги, в данном случае — на прилегающую справа грунтовую дорогу. Правильный ответ — 1.

Вопрос 3

Знак 3.28 «Стоянка запрещена» остановку не запрещает, поэтому вы можете остановиться в указанном месте. Правильный ответ — 1.

Вопрос 4

Все указанные знаки запрещают движение водителям мопедов. Знак 5.14 (Б) «Полоса для маршрутных транспортных средств» используется для обозначения полосы, предназначенной для движения только маршрутных транспортных средств, велосипедистов и транспортных средств, используемых в качестве легкового такси. Знаки 4.4.1 (А) «Велосипедная дорожка», 4.5.2 «Пешеходная и велосипедная дорожка с совмещенным движением» (В) и 4.5.4 «Пешеходная и велосипедная дорожка с разделением движения» (Г) движение мопедов также не предусматривают. Правильный ответ — 4.

Вопрос 5

Разметка 1.13 (в виде линии из треугольников) наносится поперек полосы движения и указывает место, где вы должны при необходимости остановиться, выполняя требование знака 2.4 «Уступите дорогу» и предоставляя преимущество транспортным средствам, движущимся по пересекаемой дороге. Правильный ответ — 2.

Вопрос 6

Для информирования водителей о предстоящей смене зеленого сигнала светофора на желтый Правилами предусмотрена возможность мигания зеленого сигнала. Этот сигнал разрешает движение транспортных средств (п. 6.2 ПДД). Следовательно, правильный ответ — 2.

Вопрос 7

Перед началом движения, перестроением, поворотом (разворотом) и остановкой водитель обязан подавать сигналы световыми указателями поворота соответствующего направления, а если они отсутствуют или неисправны — рукой. Правильный ответ — 4.

Вопрос 8

Стрелы разметки 1.18 указывают, что на данном перекрестке поворот направо может осуществляться не только с правой, но и с левой полосы. Следовательно, вы можете выполнить поворот либо заранее перестроившись на крайнюю правую полосу (занять крайнее правое положение) (п. 8.5 ПДД), либо продолжив движение по левой полосе. Поэтому возможны оба способа поворота. Правильный ответ — 3.

Вопрос 9

Выполняя разворот на этом перекрестке, вы должны будете использовать для движения участок дороги, имеющей двустороннее движение. Поэтому, въезжая на перекресток, вы можете продолжить движение только по правой стороне данного участка проезжей части (п. 1.4 ПДД) (этому на рисунке соответствует траектория А). Следовательно, правильный ответ — 1.

Вопрос 10

Знак 4.6 «Ограничение минимальной скорости» и табличка 8.14 «Полоса движения» предписывают двигаться по левой полосе со скоростью не менее 50 км/ч. Кроме этого, вне населенного пункта легковой автомобиль может двигаться со скоростью до 90 км/ч (за исключением автомагистралей, но об этом в данном вопросе речь не идет). Следовательно, правильный ответ — 3.

Вопрос 11

В соответствии с п. 11.4 ПДД на нерегулируемых перекрестках запрещается обгон на дороге, которая не является главной. Поскольку водитель легкового автомобиля движется по главной дороге (знак 2.3.1 «Пересечение с второстепенной дорогой») и она имеет две полосы движения в каждом направлении, можно опередить оба грузовых автомобиля по любой траектории. Следовательно, правильный ответ — 1.

Вопрос 12

Остановившись за пешеходным переходом в 5 м от края пересекаемой проезжей части и обеспечив при этом расстояние 3 м до сплошной линии разметки, водитель не нарушит правила стоянки. Правильный ответ — 3.

Вопрос 13

В соответствии с п. 13.1 ПДД при повороте направо или налево водитель обязан уступить дорогу пешеходам, переходящим проезжую часть дороги, на которую он поворачивает, а также велосипедистам, пересекающим ее по велосипедной дорожке. Правильный ответ — 3.

Вопрос 14

В соответствии с п. 13.11 ПДД на нерегулируемом перекрестке равнозначных дорог трамвай имеет преимущество перед безрельсовыми транспортными средствами независимо от направления его движения. Правильный ответ — 1.

Вопрос 15

Вы пересекаете перекресток по направлению главной дороги, поэтому имеете преимущество и перед автобусом (несмотря на то что он тоже находится на главной дороге, поскольку у него есть помеха справа — ваш автомобиль), и перед легковым автомобилем (он находится на второстепенной дороге). Следовательно, правильный ответ на данный вопрос — 3.

Вопрос 16

Автомобиль въезжает на территорию жилой зоны (знак 5.21), где в соответствии с п. 10.2 ПДД разрешается двигаться со скоростью не более 20 км/ч. Правильный ответ — 4.

Вопрос 17

Перевозка людей на мотоцикле должна осуществляться водителем, имеющим водительское удостоверение на право управления транспортным средством категории «А» или подкатегории «А1» в течение 2 и более лет (п. 22.2(1) ПДД). Правильный ответ — 3.

Вопрос 18

В соответствии с Перечнем неисправностей из всех перечисленных неисправностей только неработающий стеклоподъемник не является причиной запрещения эксплуатации вашего транспортного средства. Правильный ответ — 4.

Вопрос 19

В данной ситуации возникает опасность заноса автомобиля из-за разницы сцепления правых и левых колес с поверхностью дороги. В подобных случаях рекомендуется, не меняя скорости и не пользуясь торможением, вернуть автомобиль на проезжую часть плавным поворотом руля. Если затормозить, автомобиль может занести. Следовательно, правильный ответ на данный вопрос — 3.


Вопрос 20

Время реакции водителя — время, которое проходит с момента обнаружения опасности до начала принятия мер по ее избежанию. В зависимости от состояния водителя и его опыта, а также сложности обстановки, в которой находится водитель, это время обычно составляет от 0,5 до 1,5 с. Правильный ответ — 2.

**Вопрос 1**


Сколько полос для движения имеет данная дорога?

1. Две.
2. Четыре.
3. Пять.

**Вопрос 2**

Можно ли вам въехать на мост первым?

1. Можно.
2. Можно, если вы не затрудните движение встречному автомобилю.
3. Нельзя.

**Вопрос 3**

Разрешено ли вам произвести остановку для посадки пассажира?

1. Разрешено.
2. Разрешено только по четным числам месяца.
3. Разрешено только по нечетным числам месяца.
4. Запрещено.

**Вопрос 4**

Что запрещено в зоне действия этого знака?

1. Движение всех транспортных средств со скоростью не более 20 км/ч.
2. Движение механических транспортных средств.
3. Движение любых транспортных средств.

**Вопрос 5**

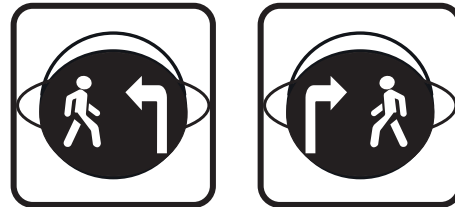
Разрешен ли вам выезд на полосу с реверсивным движением, если реверсивный светофор выключен?

1. Разрешен.
2. Разрешен, если скорость автобуса — менее 30 км/ч.
3. Запрещен.

Вопрос 6

Информационная световая секция в виде силуэта пешехода и стрелки с мигающим сигналом бело-лунного цвета, расположенная под светофором, информирует водителя о том, что:


1. На пешеходном переходе, в направлении которого он поворачивает, включен сигнал светофора, разрешающий движение пешеходам.
2. На пешеходном переходе, в направлении которого он поворачивает, включен сигнал светофора, запрещающий движение пешеходам.
3. Он поворачивает в направлении пешеходного перехода.



Вопрос 7

Поднятая вверх рука водителя легкового автомобиля является сигналом, информирующим вас о его намерении:

1. Повернуть направо.
2. Продолжить движение прямо.
3. Снизить скорость, чтобы остановиться и уступить дорогу мотоциклу.



Вопрос 8

Двигаясь по левой полосе, вы намерены перестроиться на правую. На каком из рисунков показана ситуация, в которой вы обязаны уступить дорогу?

1. На левом.
2. На правом.
3. На обоих.



Вопрос 9

Можно ли вам выполнить разворот в этом месте?

1. Можно.
2. Можно только при отсутствии приближающегося поезда.
3. Нельзя.



Вопрос 10

В каких случаях разрешается наезжать на прерывистые линии разметки, разделяющие проезжую часть на полосы движения?

1. Только если на дороге нет других транспортных средств.
2. Только при движении в темное время суток.
3. Только при перестроении.
4. Во всех перечисленных случаях.

**Вопрос 11**

Разрешено ли вам обогнать мотоцикл?

1. Разрешено.
2. Разрешено, если водитель мотоцикла снизил скорость.
3. Запрещено.

**Вопрос 12**


Разрешается ли вам остановиться в указанном месте?

1. Разрешается.
2. Разрешается, если автомобиль будет находиться не ближе 5 м от края пересекаемой проезжей части.
3. Запрещается.

**Вопрос 13**

Вы намерены повернуть налево. Кому вы должны уступить дорогу?

1. Только пешеходам.
2. Только автобусу.
3. Автобусу и пешеходам.

**Вопрос 14**

В каком случае вы имеете преимущество?

1. Только при повороте направо.
2. Только при повороте налево.
3. В обоих перечисленных случаях.

**Вопрос 15**

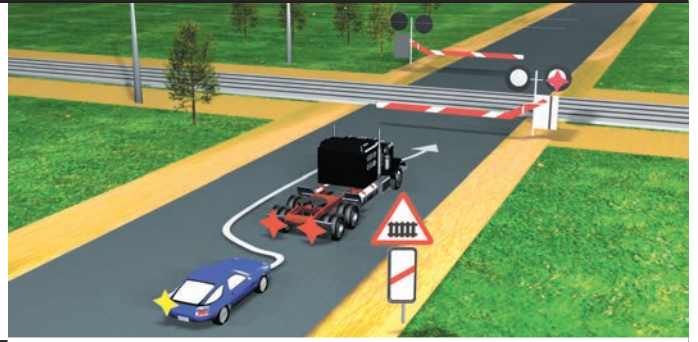
Обязан ли водитель мотоцикла уступить вам дорогу?

1. Обязан.
2. Не обязан.

Вопрос 16

Разрешается ли водителю выполнить объезд грузового автомобиля?

1. Разрешается.
2. Разрешается, если расстояние между шлагбаумом и остановившимся грузовым автомобилем — более 5 м.
3. Запрещается.

**Вопрос 17**

В каких из перечисленных случаев запрещена буксировка на гибкой сцепке?

1. Только на горных дорогах.
2. Только в гололедицу.
3. Только в темное время суток и в условиях недостаточной видимости.
4. Во всех перечисленных случаях.

Вопрос 18

Запрещается эксплуатация мототранспортных средств (категории «L»), если остаточная глубина рисунка протектора шин (при отсутствии индикаторов износа) составляет не более:

1. 0,8 мм.
2. 1,0 мм.
3. 1,6 мм.
4. 2,0 мм.

Вопрос 19

Исключает ли антиблокировочная тормозная система (АБС) возможность возникновения заноса или сноса при прохождении поворота?

1. Полностью исключает возможность возникновения только заноса.
2. Полностью исключает возможность возникновения только сноса.
3. Не исключает возможности возникновения сноса или заноса.

Вопрос 20

В каких случаях следует начинать сердечно-легочную реанимацию пострадавшего?

1. При наличии болей в области сердца и затрудненного дыхания.
2. При отсутствии у пострадавшего сознания, независимо от наличия дыхания.
3. При отсутствии у пострадавшего сознания, дыхания и кровообращения.

Вопрос 1

Дорога имеет всего четыре полосы для движения, так как каждая из проезжих частей разделена разметкой на две полосы. Правильный ответ — 2.

Вопрос 2

Поскольку перед мостом установлен знак 2.7 «Преимущество перед встречным движением», вы можете въехать на мост первым, а водители встречных транспортных средств обязаны уступить вам дорогу. Значит, правильный ответ — 1.

Вопрос 3

Знак 3.29 «Стоянка запрещена по нечетным числам месяца» запрещает только стоянку. Следовательно, остановиться в этом месте, в том числе и для посадки пассажиров, вы можете в любой день месяца. Правильный ответ — 1.

Вопрос 4

Знак 5.33 «Пешеходная зона» обозначает место, с которого начинается территория (участок дороги), где разрешено движение только пешеходов, а также велосипедистов в случаях, установленных в Правилах (приложение 1 к ПДД). Таким образом, запрещено движение всех механических транспортных средств. Следовательно, правильный ответ — 2.

Вопрос 5

В соответствии с п. 6.7 ПДД при выключенных сигналах реверсивного светофора, который расположен над полосой, обозначенной с обеих сторон разметкой 1.9, въезд на эту полосу запрещен. Следовательно, выезд на полосу с реверсивным движением в данном случае запрещен. Правильный ответ — 3.

Вопрос 6

Информационная световая секция в виде силуэта пешехода и стрелки с мигающим сигналом бело-лунного цвета, расположенная под светофором, информирует водителя о том, что на пешеходном переходе, в направлении которого он поворачивает, включен сигнал светофора, разрешающий движение пешеходам. Направление стрелки указывает на пешеходный переход, на котором включен сигнал светофора, разрешающий движение пешеходам (п. 6.4 ПДД). Правильный ответ — 1.

Вопрос 7

В соответствии с п. 8.1 ПДД поднятая вверх правая или левая рука является сигналом торможения. В данном случае очевидно, что водитель притормозил перед знаком 2.4 «Уступите дорогу» для того, чтобы пропустить движущегося по пересекаемой проезжей части мотоциклиста. Поэтому он поднятой рукой подал соответствующий знак едущему следом водителю. Правильный ответ — 3.

Вопрос 8

При перестроении с левой полосы на правую водитель должен уступить дорогу автомобилю, который движется попутно по соседней правой полосе, в любом случае (как без изменения направления движения, так и при одновременном перестроении). Об этом говорится в п. 8.4 ПДД. Поэтому уступить дорогу необходимо в ситуациях, которые показаны на обоих рисунках. Правильный ответ — 3.

Вопрос 9

В соответствии с п. 8.11 ПДД разворот запрещается непосредственно на железнодорожных переездах. Поскольку водитель намерен развернуться, не доезжая до переезда, то это не запрещается. Следовательно, правильный ответ на данный вопрос — 1.

Вопрос 10

В соответствии с п. 9.7 ПДД наезжать на прерывистые линии разметки разрешается только при перестроении. Правильный ответ — 3.

Вопрос 11

В данном случае вы и мотоциклист приближаетесь к нерегулируемому перекрестку равнозначных дорог. ПДД в подобных ситуациях запрещают совершать обгон (п. 11.4 ПДД). Кроме того, на пересекаемой проезжей части имеется автомобиль, который представляет собой помеху справа. Он имеет преимущество при движении через перекресток, поэтому обгонять мотоциклиста нельзя. Правильный ответ — 3.

Вопрос 12

Вы можете остановиться в указанном месте, если расстояние до края пересекаемой проезжей части составляет не меньше 5 м (п. 12.4 ПДД). Следовательно, правильный ответ на данный вопрос — 2.

Вопрос 13

При проезде данного перекрестка в первую очередь следует руководствоваться работающим светофором, а знаки приоритета нужно игнорировать (об этом говорится в пп. 6.15 и 13.3 ПДД). При повороте налево необходимо уступить дорогу транспортным средствам, которые движутся во встречном направлении прямо (п. 13.4). Заканчивая левый поворот, водитель должен уступить дорогу переходящим проезжую часть пешеходам (п. 13.1). Следовательно, правильный ответ — 3.

Вопрос 14

У находящегося слева от вас грузовика имеется помеха справа, которой является ваш автомобиль. Поскольку речь идет о проезде через нерегулируемый перекресток равнозначных дорог, вы имеете преимущество и можете ехать первым (причем это правило действует независимо от конфигурации перекрестка). Правильный ответ — 3.

Вопрос 15

Автомобильная (она на рисунке обозначена знаком 5.1) является главной дорогой по отношению к примыкающей. Следовательно, мотоциклист должен уступить дорогу. Правильный ответ — 1.

Вопрос 16

В соответствии с п. 15.3 ПДД запрещается объезжать с выездом на полосу встречного движения стоящие перед железнодорожным переездом транспортные средства. Правильный ответ — 3.

Вопрос 17

Буксировка транспортных средств на гибкой сцепке запрещена в гололедицу из-за высокой вероятности заноса при торможении или трогании с места. Это указано в п. 20.4 ПДД. Во всех остальных из перечисленных случаев буксировать транспортное средство можно на гибкой сцепке. Правильный ответ — 2.

Вопрос 18

Для мототранспортных средств, относящихся к транспортным средствам категории «L», остаточная глубина рисунка протектора шин (при отсутствии индикаторов износа), при которой запрещается эксплуатация транспортных средств, составляет не более 0,8 мм. Правильный ответ — 1.

Вопрос 19

Антиблокировочная система (АБС) предназначена только для предотвращения блокировки колес автомобиля при торможении и не может исключить возможность возникновения заноса или сноса автомобиля при других условиях движения. Правильный ответ на данный вопрос — 3.

Вопрос 20

Сердечно-легочная реанимация проводится только при отсутствии у пострадавшего признаков жизни: потере сознания, отсутствии пульса на сонной артерии, а также признаков дыхания. Правильный ответ — 3.