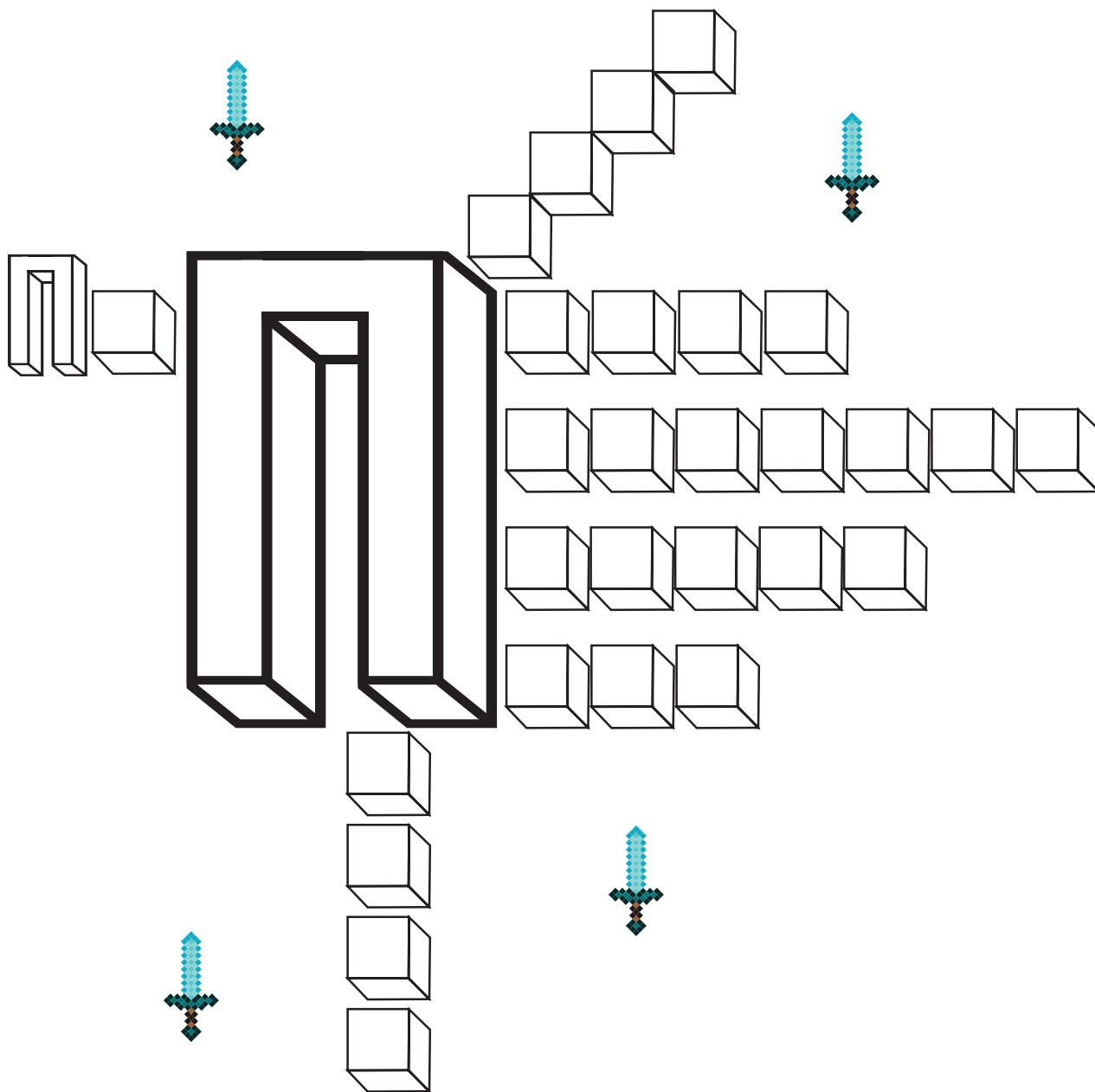


П — ЗНАЧИТ «МОБ»


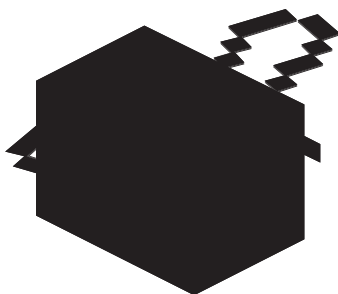

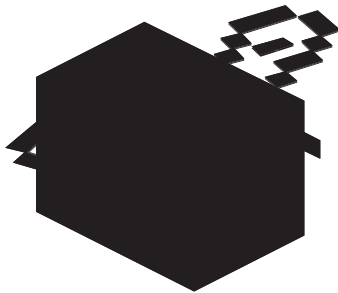



Заполни кубики буквами так, чтобы можно было прочесть названия мобов на букву П.



Подсказка: 4 из 6 мобов — животные.


ЗЕРКАЛЬНАЯ МАГИЯ

Зеркало — настоящий магический предмет, но только если ты овладел зеркальной магией! Определи, какое из этих изображений является зеркальным отражением каждого моба в верхнем ряду.





ПАСТБИЩЕ И КОРОВЫ

Раздели это пастбище двумя прямыми линиями на 4 части так, чтобы в каждой части находились корова, пшеница и ведро.



НАРИСУЙ ПО ОБРАЗЦУ


Нарисуй Странника Края по образцу.



ВНИМАНИЕ!

Во всех квадратах на этой странице, кроме одного, размещены одни и те же изображения. Определи, в каком из квадратов недостает одной картинki, и какой именно не хватает.


1




2




3



4

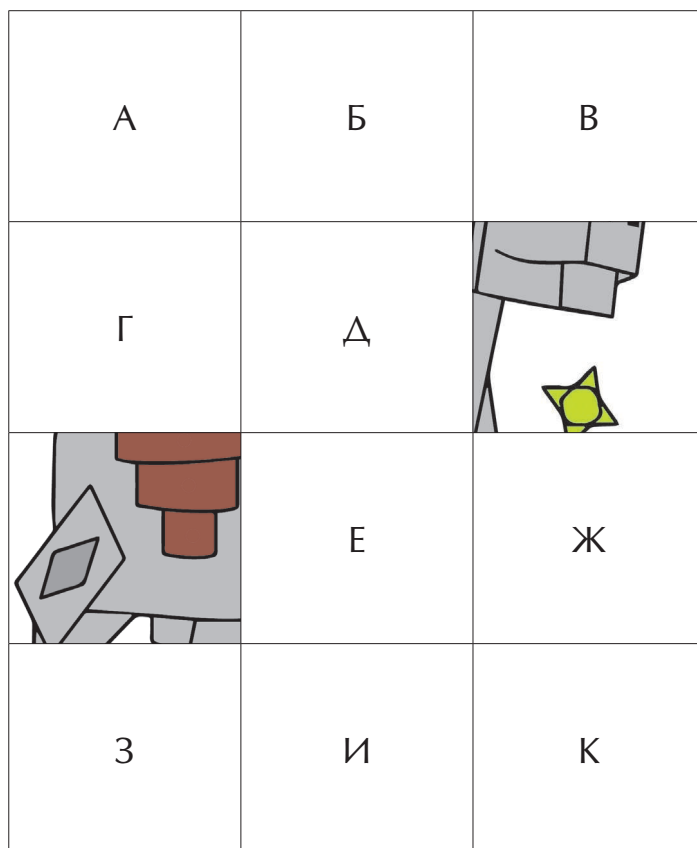


5




СОБЕРИ КАРТИНКУ!


Внимательно рассмотри фрагменты картинки, а затем сложи их так, чтобы получилась картинка единорога. Для этого впиши в сетку номера соответствующих квадратиков.



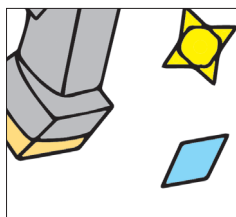
1




2



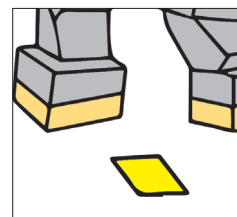
3




4



5



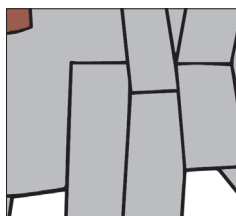
6



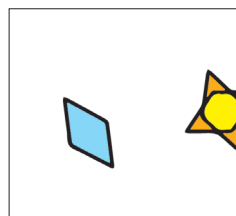
7



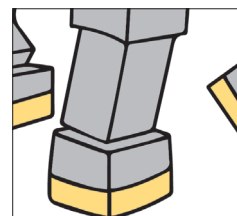
8



9

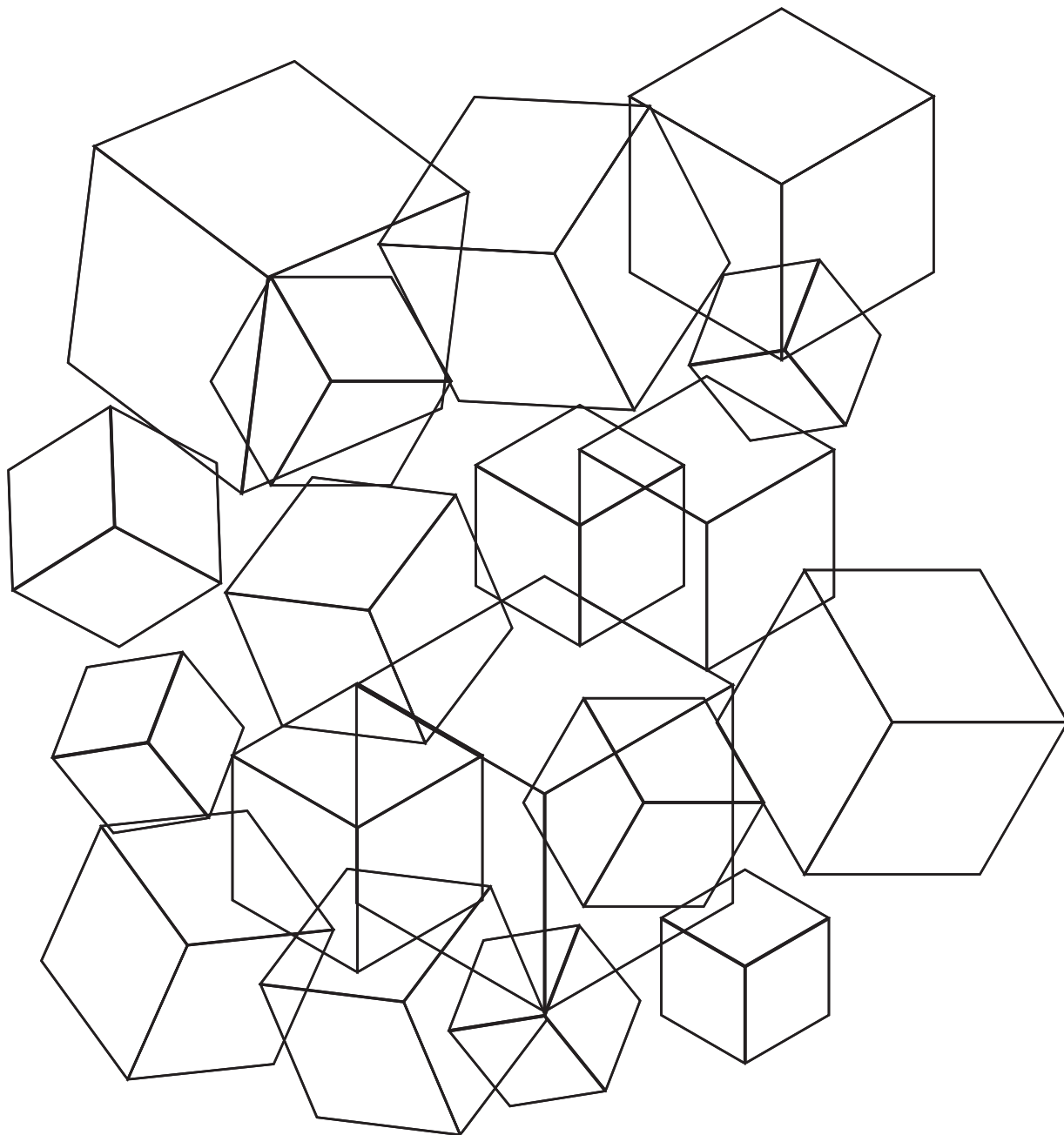


10



ГЛАЗОМЕР

Сколько кубиков на этой странице?
Сначала оцени количество на глаз, а потом сосчитай.
Ну как, не подвел тебя глазомер?



ИЩЕМ ПОРТАЛ

Помоги Алексу найти в подземном мире крепость с порталом, ведущим в Энд. Внимательно рассмотри карту, прочитай инструкции внизу и определи, в каком квадрате находится крепость.

1. Высокая ель растёт в кадре Ж2.
2. Деревня расположена на 5 квадратов выше ели.
3. Пастбище расположено на 2 квадрата вправо и на 2 квадрата вверх от деревни.
4. Река начинается на 1 квадрат вверх и на 4 квадрата влево от пастбища и протекает по квадратам Г9, Д8, Г7, Д6, Г5, Г4, В3, В2, В1.
5. Мост через реку находится в 4 квадратах влево от высокой ели.
6. Шахта находится в 2 квадратах влево и 3 квадратах вверх от моста.
7. Аванпост разбойников находится в 2 квадратах вправо и в 4 квадратах вверх от шахты.
8. Крепость с порталом расположена в 2 квадратах вниз от разбойничьего аванпоста.



10										
9			А						П	
8										
7						Д				
6										
5	Ш									
4										
3										
2		М				Е				
1										
	А	Б	В	Г	Д	Е	Ж	З	И	К



РАСКРАСЬ КАРТИНКУ

Раскрась картинку по цветовому коду и узнай, кто на ней изображен.

○ белый

× оранжевый

☺ желтый

☹ черный

⊖ коричневый

