

ВВЕДЕНИЕ






Перед вами математический тренажёр, который предназначен для детей 6—7 лет и составлен в соответствии с федеральным государственным образовательным стандартом дошкольного образования.

Ребёнок, выполняя задания:

- освоит и закрепит навыки счёта в пределах 20, а также знания о геометрических фигурах;
- потренируется ориентироваться в пространстве и на листе бумаги, научится планировать свои действия для достижения конкретной цели;
- повысит любознательность и мотивацию;
- овладеет универсальными предпосылками учебной деятельности;
- сможет осуществлять самоконтроль и самооценку выполненной работы, руководствуясь пояснениями взрослого.

Слева от текста каждого задания расположены тематические рисунки. Пусть ребёнок поставит в таком рисунке знак «+» зелёным карандашом, если выполнил задание без ошибок, знак «-» красным карандашом — если в задании были допущены ошибки.

Условные обозначения:





-  — количественный и порядковый счёт;
-  — геометрические фигуры;
-  — величина и измерения;
-  — ориентация в пространстве и во времени;
-  — логические задачи.

Желаем успехов!

ЗАНЯТИЕ 1



Сосчитай предметы в каждой рамке и соедини рамку с подходящей цифрой.



6

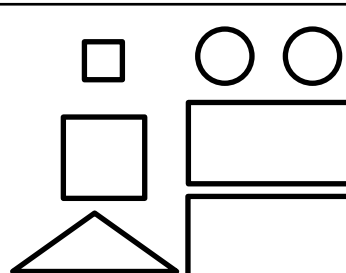
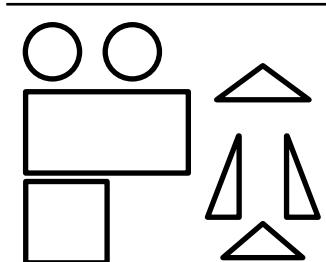
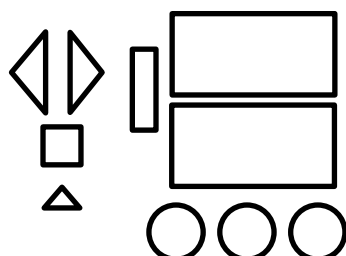
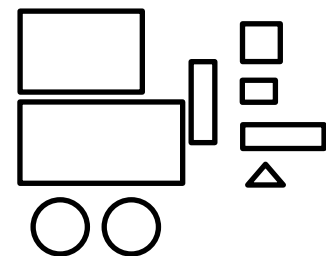
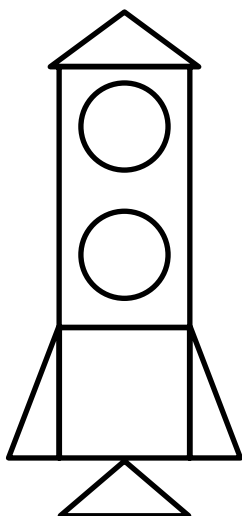
5

9

8



Из какого набора геометрических фигур сделана космическая ракета? Сколько деталей в ракете?

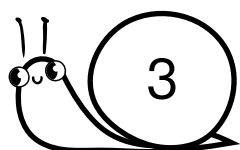


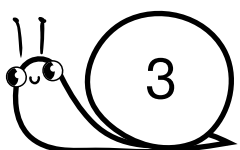
ЗАНЯТИЕ 2

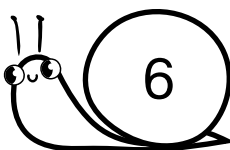
+																		
-																		
=																		




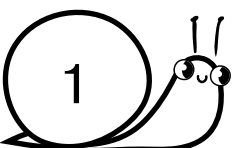
Напиши в квадратах подходящие математические знаки: «+» или «-».




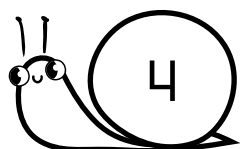


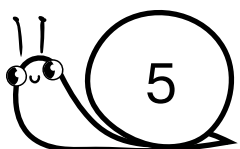


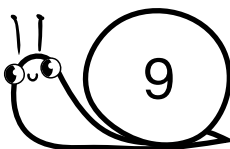















Нарисуй в каждом прямоугольнике столько мячей, сколько обозначает цифра в рамке.


6	
9	



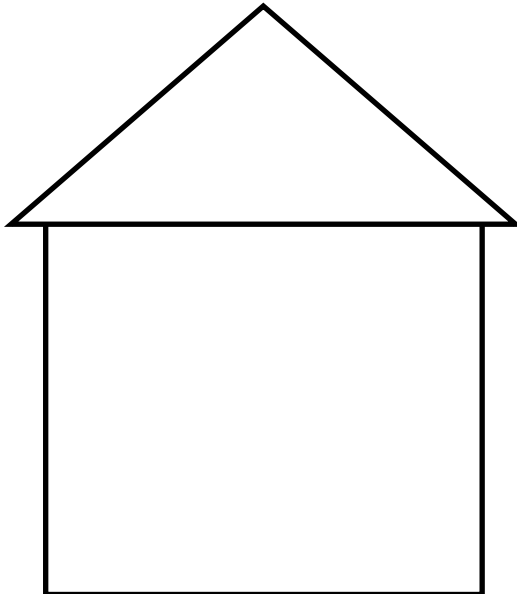
Составь задачу и запиши решение. Прочитай запись.



--	--	--	--	--



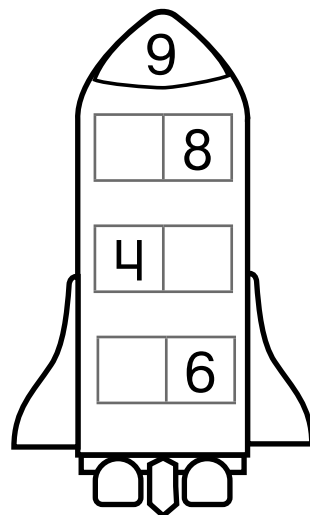
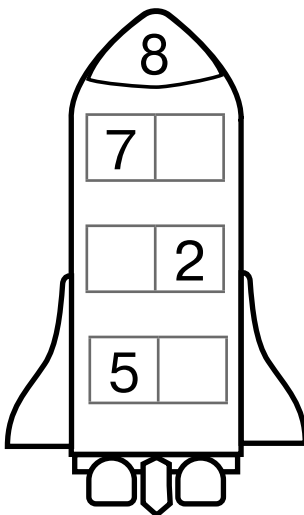
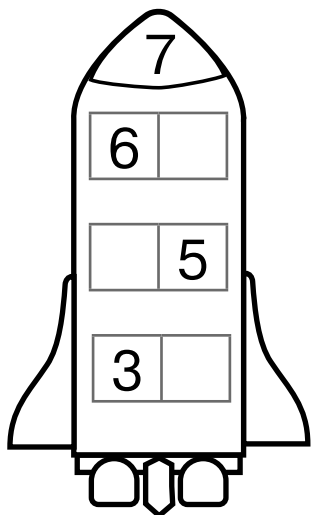
Нарисуй в доме слева дверь, справа — окно, на крыше с правой стороны — трубу, слева от дома — дерево, справа — забор.



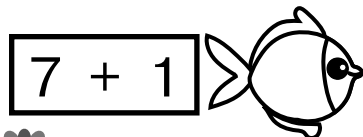

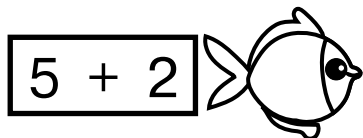
ЗАНЯТИЕ 3




Допиши в каждой паре такую цифру, чтобы при сложении получилось число на носу ракеты.

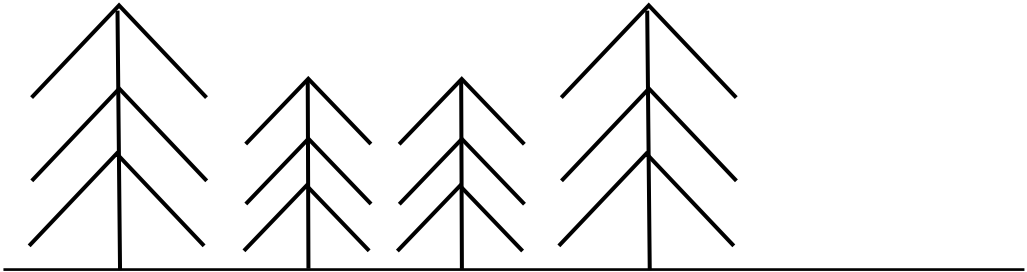


Реши примеры и соедини линией каждую рыбу с подходящей ракушкой.

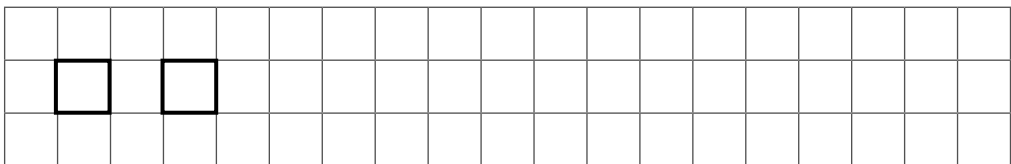
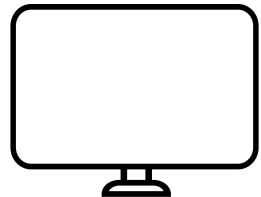






Ели расположены в определённой последовательности. Какое дерево в ряду следующее? Нарисуй его.




Нарисуй под каждым предметом геометрическую фигуру, на которую он похож.



ЗАНЯТИЕ 4




Составь задачи и запиши решения. Прочитай записи.



	+		=	
--	---	--	---	--

	-		=	
--	---	--	---	--



Напиши в квадратах номера, соответствующие порядку времени суток, начиная с утра.



