

КОСТЕУГОЛЬНИК

В этой почве полно ископаемых. Сможешь подсчитать суммарное количество всех сторон у образцов, отмеченных цифрами от 1 до 10? Запиши получившийся результат в пустой клетке в правом нижнем углу.



ТЯГОТЫ ЗЕЛЬЕВАРЕНИЯ

Эти четыре ведьмочки ищут для зелья волшебный цветок.
Найди волшебницу, которая доберётся до него.



НЕ ПОКЛАДАЯ РУК

Взгляни на этих рабочих на стройплощадке. Сколько там строителей? Что они делают? Внимательно рассмотри картинку и постарайся запомнить как можно больше деталей, а затем переверни страницу.



НАПРАВО ИЛИ НАЛЕВО?

Постарайся вспомнить, какие объекты на этой картинке повернуты в противоположную сторону.



ЗА РАБОТУ!

- Рабочих стало больше или меньше?
- Есть ли кто-то, кто надел каску, хотя на предыдущей странице разгуливал без неё?

ПЕРЕЛОПАТИТЬ ВСЁ!

Обведи лопату, которой не было на предыдущей картинке.

ПРОВЕРКА КОАЛО-ФИКАЦИИ

Подсказки:

1 квокка =
1 час



1 тасманский
дьявол =
2 часа



1 кенгуру =
4 часа



2 вомбата =
5 часов



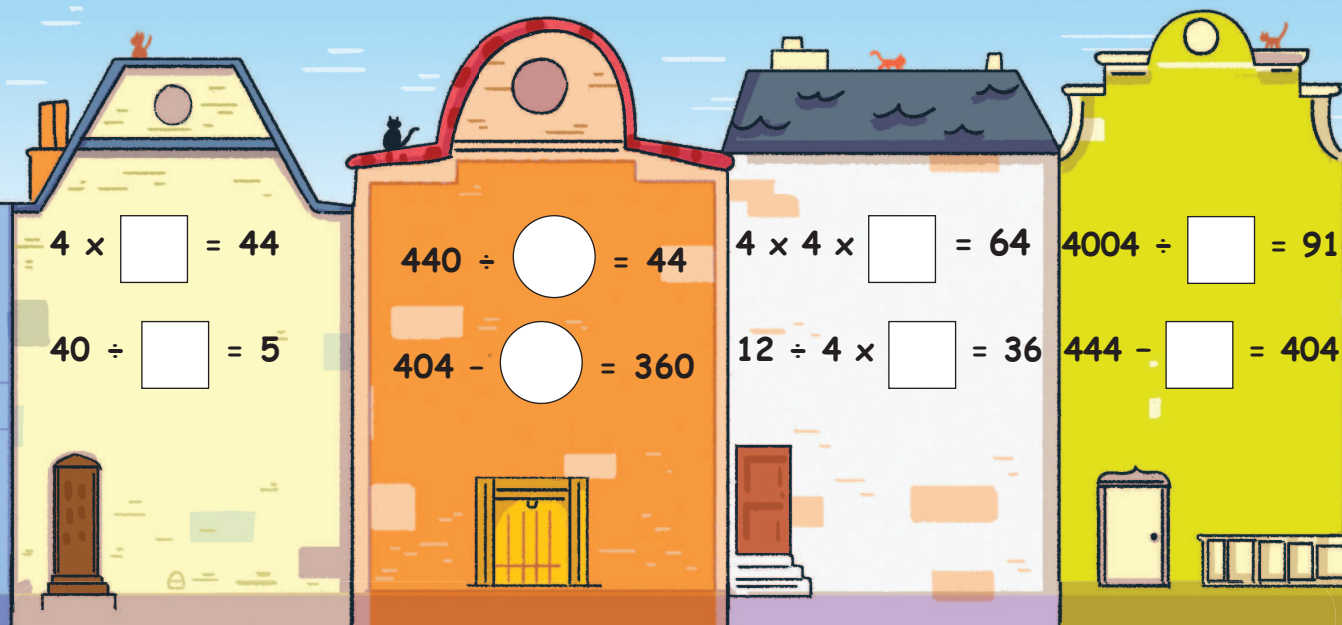
4 коалы =
6 часов



В подсказке дана информация о времени, которое тратит зритель на уборку в клетках указанных животных. Как долго он будет убирать клетки, если количество животных изменится? Клетка с какой группой животных потребует больше времени: А, Б, В или Г?


ВИД ИЗ ОКНА

Сможешь вписать номера в пустые окошки так, чтобы каждое равенство было верным?



ТАНЕЦ МАЛЕНЬКИХ УТЯТ

Сможешь поменять утят местами так, чтобы получилось верное равенство? Ты можешь использовать все данные числа и математические символы в любом порядке, но каждое — только один раз. Запиши получившийся ответ во втором ряду уток.



ИДЕАЛЬНЫЙ БАЛАНСОЗАВР


Глядя на то, как динозаврики уравнивают эти качели, дай ответ, какая расстановка динозавров уравновесит последние качели:

1, 2 или 3?



МУРРАМИДА

Если решишь эти пирамиды из чисел, котики позволят тебе себя погладить! Каждая клетка — результат умножения чисел в клетках, на которых она стоит.



НЕ ОБЕЗЬЯНИЧАЙ!


Выясни, каким будет следующий номер в этой математической последовательности из мартышек. Запиши свой ответ на пузике последней обезьяны.



Старт

ОШЕЛАМИТЕЛЬНЫЕ ДЕТАЛИ

Отыщи фрагмент, который не относится к этой картинке.



ВОЗМУЩЁННАЯ УГАДАЙКА

Как думаешь, правда, что обиженная лама может в тебя плюнуть? Или мы перепутали её с верблюдом?