

УЧУСЬ СЧИТАТЬ

При выполнении заданий данного раздела обратите внимание на следующее.

- Если ребёнок вместо слова «один» произносит «раз», необходимо обязательно исправить эту ошибку. Поставьте перед малышом одну игрушку и спросите: «Сколько?»
- Если ребёнок называет числа с одной скоростью, а указывает на предметы с другой, значит, он не соотносит число и объект. Попросите малыша при счёте указывать рукой на каждый предмет (следить за счётом пальчиком).
- Если ребёнок не отличает результат счёта от самого процесса, сосчитайте предметы и скажите «всего», делая при этом круговой жест. Затем попросите малыша повторить ваши действия.
- При ответе на вопрос «сколько?» следите, чтобы ребёнок называл итоговое число и предмет после слова «всего». Это поможет малышу понять, что счёт окончен.





1 цыплёнок суетится,
От курицы отстать боится.



2 пингвинам целый день
Рыбу есть совсем не лень.



У пруда сидят подружки —
3 весёлые лягушки.



4 рыбки поутру
В воде затеяли игру.



5 котят с клубком играли
И все нитки размотали.



6 бельчат без всякой спешки
Принесли в дупло орешки.



7 пчёл сидели на цветке —
Большом красивом васильке.



8 сереньких мышат
В норку спрятаться спешат.



9 шустрых непосед
Ждут бананы на обед.






Ничего в корзине нет,
А в коробке 5 конфет.




10 маленьких ежат
Под пеньком в листве лежат.

ЦИФРА И ЧИСЛО 1


Покажи пальчиком путь машины к гаражу. Следуй по стрелкам. Какие из картинок в рамках похожи на цифру 1?



Сколько точек необходимо добавить в красный прямоугольник, чтобы на каждой фишке домино стала 1 точка? Дорисуй.



Раскрась воздушные шары с цифрой 1.




СЧЁТ ДО 2

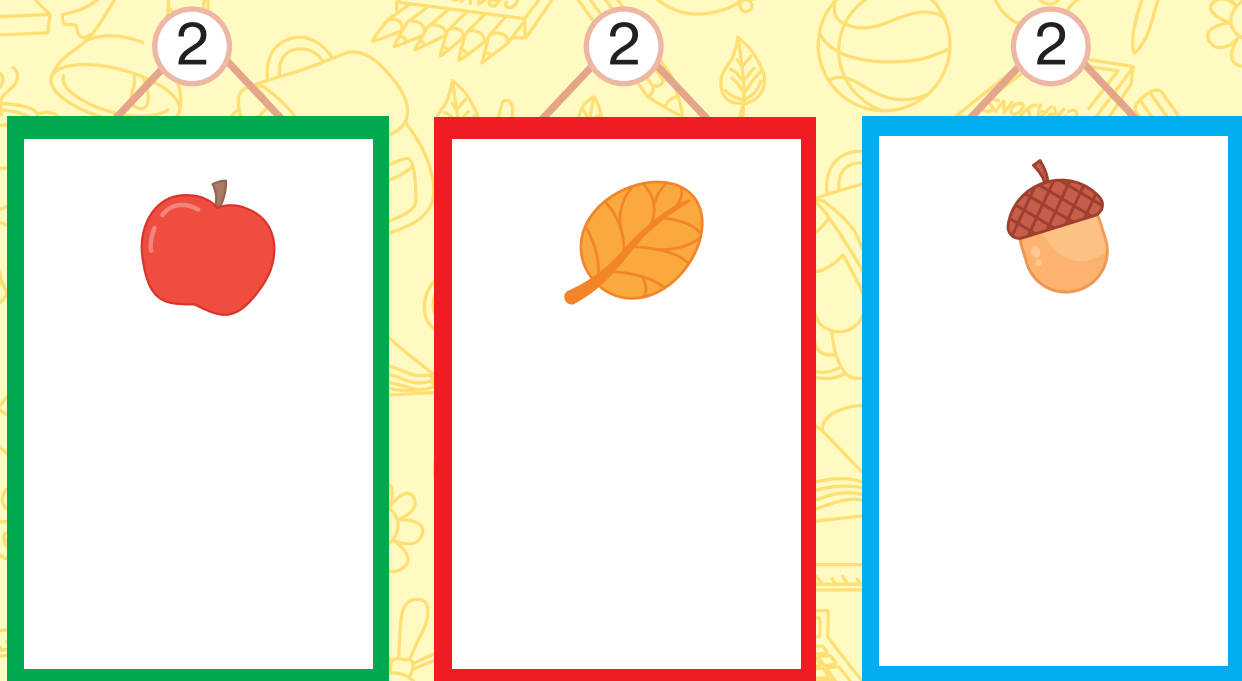
Покажи пальчиком путь машины к гаражу. Следуй по стрелке. Какие из картинок в рамках похожи на цифру 2?



Сколько точек необходимо добавить в красный прямоугольник, чтобы на каждой фишке домино их стало по 2? Дорисуй.


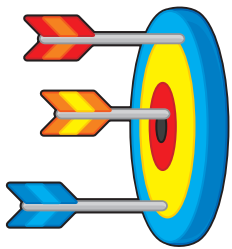


Дорисуй в каждой рамке столько предметов, чтобы их количество соответствовало цифре в каждом кружке.

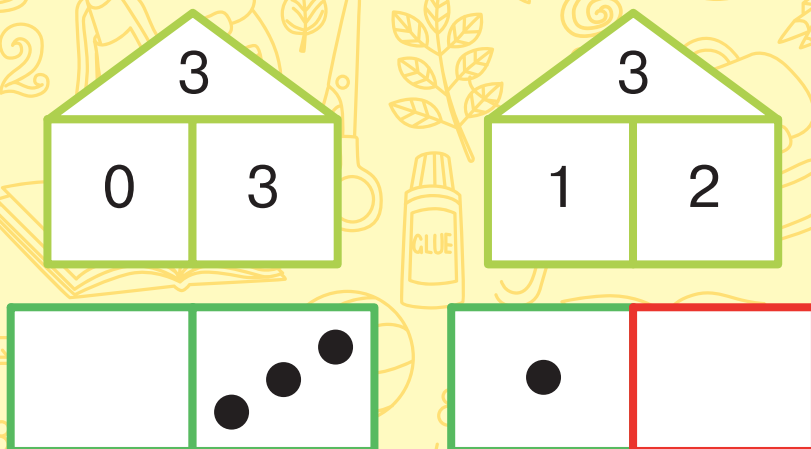



СЧЁТ ДО 3

Покажи пальчиком путь машины к гаражу. Следуй по стрелкам. Какие из картинок в рамках похожи на цифру 3?



Сколько точек необходимо добавить в красный прямоугольник, чтобы на каждой фишке домино их стало по 3? Дорисуй.






Нарисуй  в рамке столько точек, сколько автомобилей едет по дороге. В какую сторону движется транспорт?

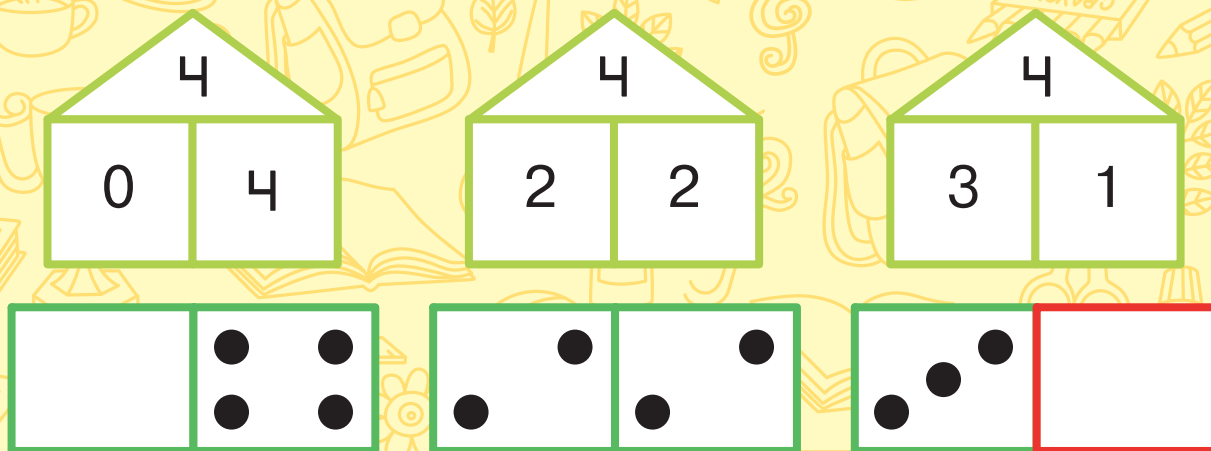


СЧЁТ ДО 4


Покажи пальчиком путь машин к гаражам. Следуй по стрелкам. Какие из картинок в рамках похожи на цифру 4?



Сколько точек необходимо добавить в красный прямоугольник, чтобы на каждой фишке домино их стало по 4? Дорисуй.



Найди одинаковых стрекоз. Сосчитай их. Каких стрекоз больше: одинаковых или разных?

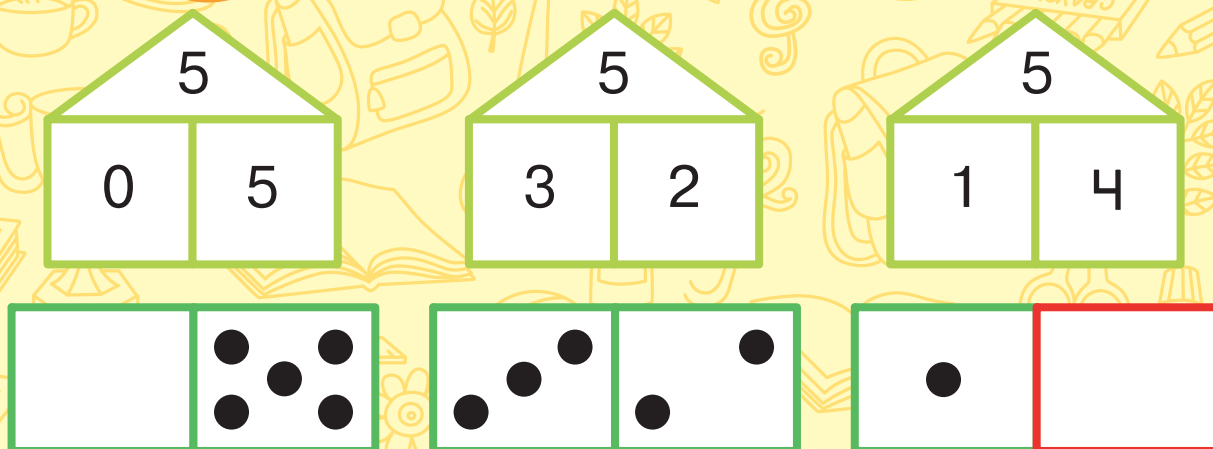


СЧЁТ ДО 5

Покажи пальчиком путь машины к гаражу. Следуй по стрелкам. Какие из картинок в рамках похожи на цифру 5?



Сколько точек необходимо добавить в красный прямоугольник, чтобы на каждой фишке домино их стало по 5? Дорисуй.



Раскрась кружок с цифрой, которая соответствует количеству поросят.

