

ВВЕДЕНИЕ

Перед вами математический тренажёр «Учимся считать до 5», который предназначен для ребёнка 4—5 лет.

Пособие поможет малышу:

- сформировать и закрепить навыки счёта в пределах 5, знания о плоских и объёмных геометрических фигурах;
- научиться ориентироваться в пространстве и на листе бумаги, планировать свои действия для достижения конкретной цели;
- расширить представления о временах года и частях суток;
- развить память, внимание, мышление, воображение, глазомер и мелкую моторику;
- повысить любознательность и мотивацию;
- эффективно подготовиться к школе.

Яркие иллюстрации, весёлые стихотворения, интересные задания сделают процесс обучения лёгким и увлекательным.

Задания в книге составлены с учётом возрастных особенностей детей и основаны на принципе от простого к сложному.

Помните: каждый ребёнок индивидуален и у каждого свой темп развития. Для малыша в раннем возрасте вы являетесь главным наставником, и только от вас зависит, что и в каком объёме он будет знать. Не стремитесь получить быстрый результат. Помогите ребёнку понять этот мир и научиться с ним взаимодействовать.

Желаем успехов!





ЗАНЯТИЕ 1



1

Сколько кур ты видишь на рисунке? Цыплят? Обведи в кружок героев, которых на рисунке по одному.



2

Сколько яблок в тележке? А сколько на каждом дереве? Обведи по пунктиру дерево, на котором много яблок.





3

Сколько собак ты видишь на рисунке? Какая из них большая, маленькая? Где чья конура, миска, косточка?



4

Кто находится справа от кораблика: Катя или Петя? Бабочка или пчела? Лягушка слева от кораблика, верно?



5




ЗАНЯТИЕ 2






1

В каком ряду листьев меньше? Дорисуй листья так, чтобы в обоих рядах их стало одинаковое количество.



2


Раскрась ягоды, которых больше, , меньше — . Дорисуй ягоды, чтобы синих стало больше, чем красных.





3

Покажи сначала большие круги, потом поменьше, в конце самые маленькие. Каких кругов больше?



4

Где мало грибов: справа или слева? Кто сидит на дереве, которое находится слева: белка или птица?




7

ЗАНЯТИЕ 3



1

Соедини кролика с морковью, а поросёнка со свёклой.
Сколько кроликов на рисунке? Сколько поросят?



2

Обведи цифру 1 в окошках дома по пунктиру. Закрась серединки цветков с цифрой 1.

