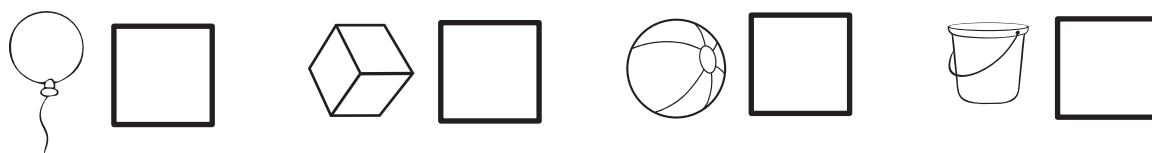
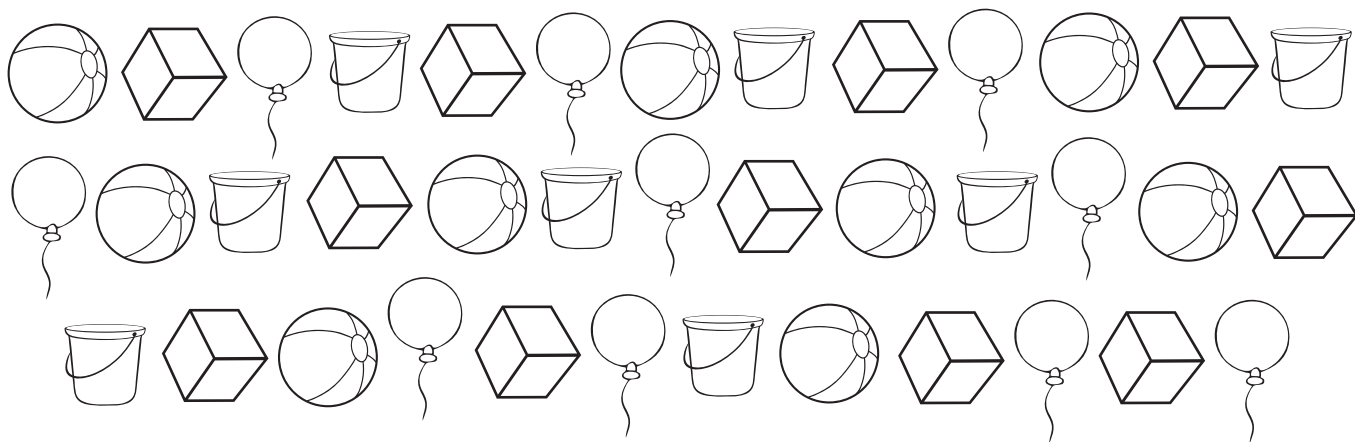




6. Сосчитай предметы по отдельности. Запиши их количество. Какое количество предметов соответствует ответу, который ты получил в прошлом задании? Раскрась этот предмет.



7. Раскрась схемы. Соедини их с подходящими словами. Обведи предмет, который ты раскрашивал в прошлом задании. Какое ещё слово может соответствовать его схеме?





КВЕСТ 9

8. Впиши в предложения подходящие слова из рамочки. Подчеркни слово, которое ты выбрал в предыдущем задании. Сколько слов в этом предложении? Запиши.

Саша построил... _____


Скачет по деревьям пушистая... _____

Мыши любят кушать... _____

В чайнике... _____



ДОМИК



СЫР



ЧАЙ



БЕЛКА


9. Соедини цифры по порядку и обведи их. Постарайся запомнить предметы около каждой цифры.

Покажи цифру, которую ты записывал в предыдущем задании.

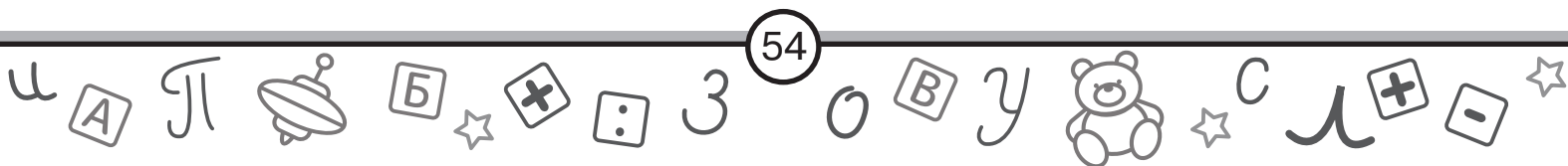




10. Сможешь записать на шляпах рядом с предметами такие же цифры? А какой предмет был рядом с цифрой, которую ты показывал? Этот предмет на шляпе Кота в сапогах!







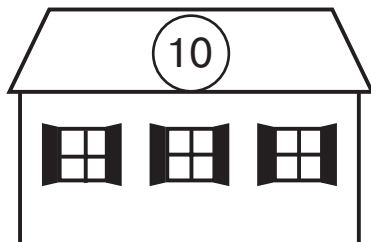

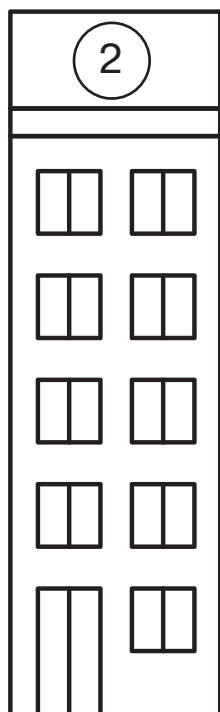



Ура! Шляпа найдена!



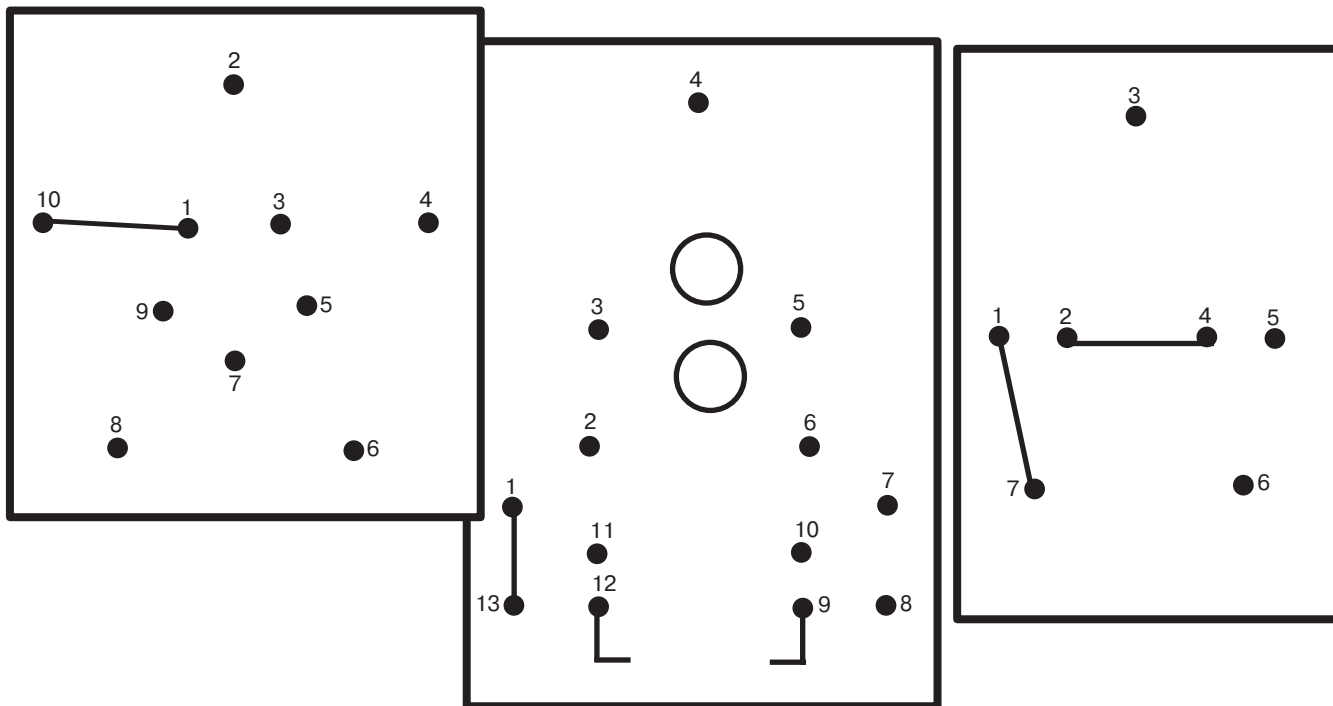
Почтальон разносил письма по адресам и потерял несколько писем. Чтобы их найти, Нужно выполнить все задания квеста. Помоги почтальону найти все письма.

1. Почтальон должен был зайти в дом, который изображён на карточке. Найди этот дом. Какой номер у этого дома?





2. Соедини цифры по порядку. Какие предметы получились? Выбери предмет, в котором количество точек соответствует номеру дома из задания №1.



3. Обведи и прочитай слова. Соедини название предмета и слово, обозначающее его действие. Какое действие подходит к предмету, выбранному в предыдущем задании.


РАКЕТА
ЗАЯЦ
МОЛОТОК
САПОГИ
КОРАБЛЬ
СТУЛ

ПРЫГАТЬ
ЛЕТАТЬ
ХОДИТЬ
ПЛАВАТЬ
СИДЕТЬ
СТУЧАТЬ




КВЕСТ 10

4. Расставь буквы по порядку и запиши названия птиц. Какая птица умеет делать то же действие, что и выбранное тобой в предыдущем задании?



Х	Е	Т	П	У
5	2	3	1	4
1	2	3	4	5



Т	У	К	А
2	1	3	4
1	2	3	4

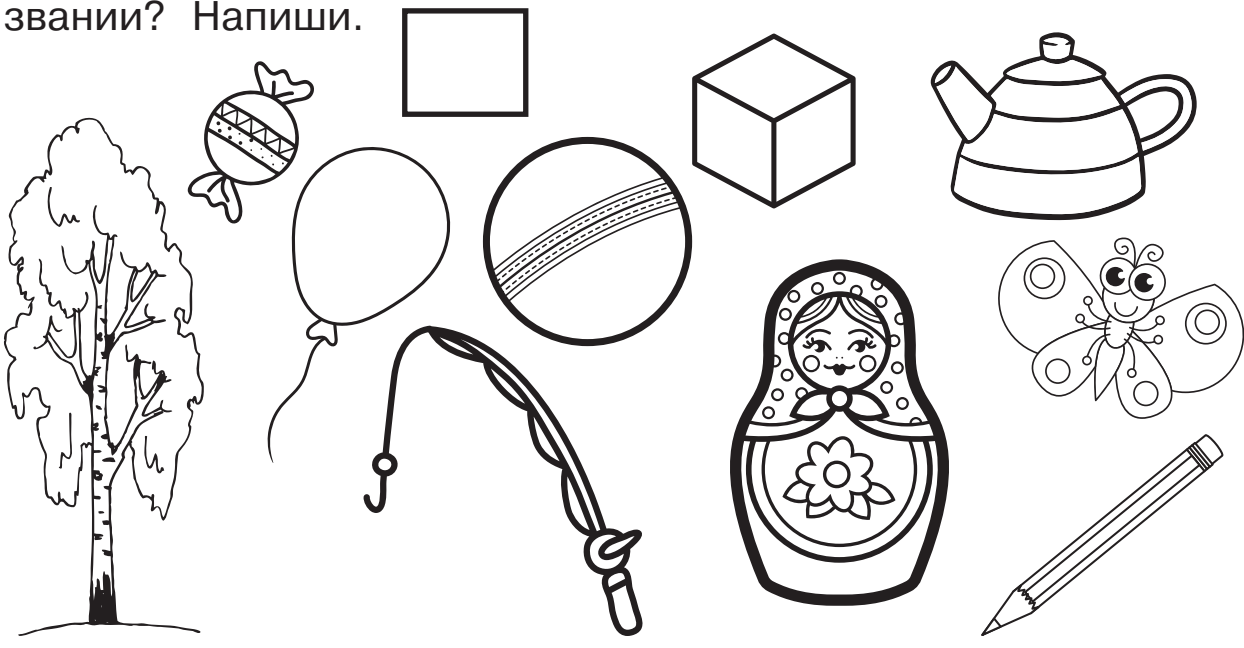


А	К	Й	А	Ч
5	4	3	2	1
1	2	3	4	5



Й	П	А	П	Г	О	У
7	3	6	1	5	2	4
1	2	3	4	5	6	7

5. В названии какого предмета первая и последняя буква совпадает с буквами в названии выбранной тобой птицы? Обведи этот предмет. Сколько слогов в его названии? Напиши.





6. Вставь получившуюся цифру в примеры. Реши их. Какое самое большое число получилось в примерах?

$$\square + 4 =$$

$$1 + \square =$$

$$\square - 2 =$$

$$8 - \square =$$

$$7 + \square =$$

$$\square + 6 =$$

$$10 - \square =$$

$$9 - \square =$$






$$5 - \square =$$

$$2 + \square =$$

$$3 + \square =$$

$$\square + 5 =$$


7. Покажи часы, которые через 1 час покажут время, соответствующее числу, которое ты выбрал в задании №6. Какой формы эти часы?





КВЕСТ 10

8. Выбери и зачеркни фигурки той формы, как и часы, которые ты выбрал. Сколько фигурок ты зачеркнул?



9. Прочитай названия картинок. Вставь пропущенные буквы. В каком задании количество букв соответствует числу, которое ты выбрал в задании №8? Обведи первую букву в этом слове.

