



# Где больше жидкости?

Имя

Дата

■ В какой из двух бутылок жидкости больше? Обведи эту бутылку.

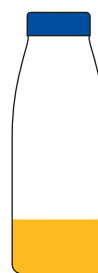
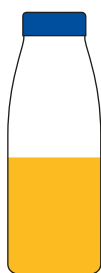
①




②



③



④

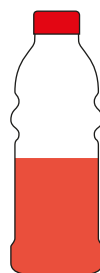


■ В какой из двух бутылок жидкости больше? Обведи эту бутылку.

①





②



③



④



# 2

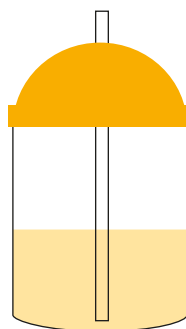
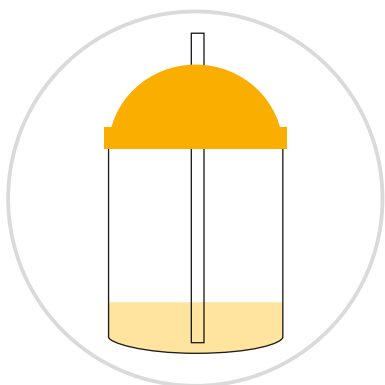
## Где меньше жидкости?

Имя

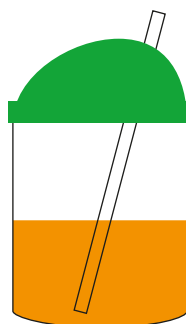
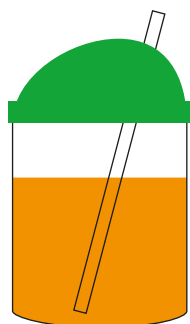
Дата

■ В какой из двух ёмкостей жидкости меньше? Обведи эту ёмкость.

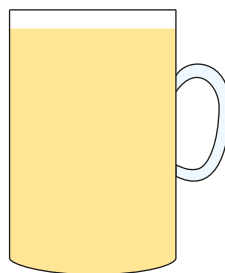
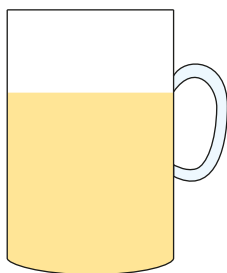
①





②



③

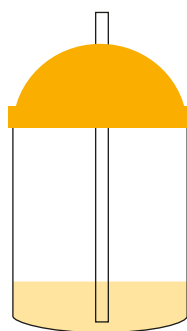
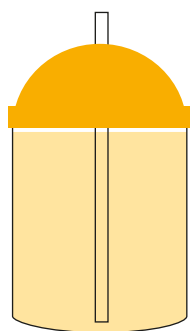


④

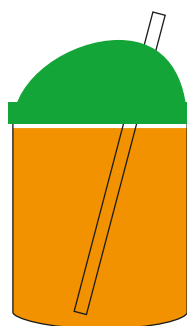
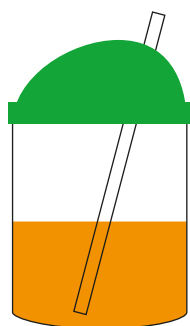


■ В какой из двух ёмкостей жидкости меньше? Обведи эту ёмкость.



①





②



③



④






# Наибольший и наименьший объём

Имя


Дата

■ В какой ёмкости жидкости больше всего, а в какой меньше всего? Нарисуй галочку (✓) под стаканом, в котором жидкости больше всего, и кружок (○) под стаканом, в котором жидкости меньше всего.

①



( ○ )



( )




( ✓ )


②



( )



( )

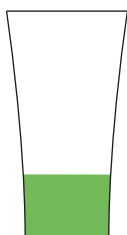


( )

③



( )




( )




( )

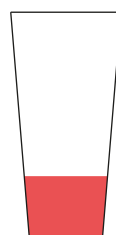
④



( )




( )



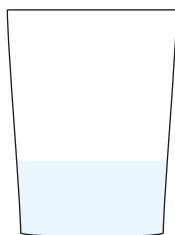
( )

■ В какой ёмкости жидкости больше всего, а в какой меньше всего? Нарисуй галочку (✓) под стаканом, в котором жидкости больше всего, и кружок (○) под стаканом, в котором жидкости меньше всего.


①



( )



( ○ )




( ✓ )

②



( )




( )

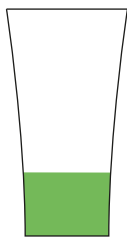


( )

③



( )




( )




( )

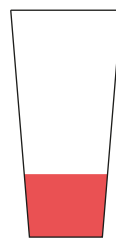
④



( )



( )



( )

# 4

## Наибольший и наименьший объём

Имя
Дата

■ В какой ёмкости жидкости больше всего, а в какой меньше всего? Нарисуй галочку (✓) под бутылкой, в которой жидкости больше всего, и кружок (○) под бутылкой, в которой жидкости меньше всего.

①



(      )



(      )



(      )

②



(      )




(      )



(      )

③



(      )




(      )



(      )

④



(      )



(      )



(      )

■ В какой ёмкости жидкости больше всего, а в какой меньше всего? Нарисуй галочку (✓) под бутылкой, в которой жидкости больше всего, и кружок (○) под бутылкой, в которой жидкости меньше всего.

①



( )

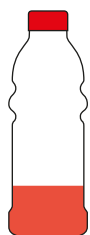


( )



( )

②



( )



( )

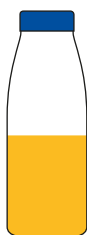


( )

③



( )

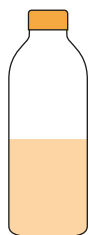


( )




( )

④



( )



( )



( )