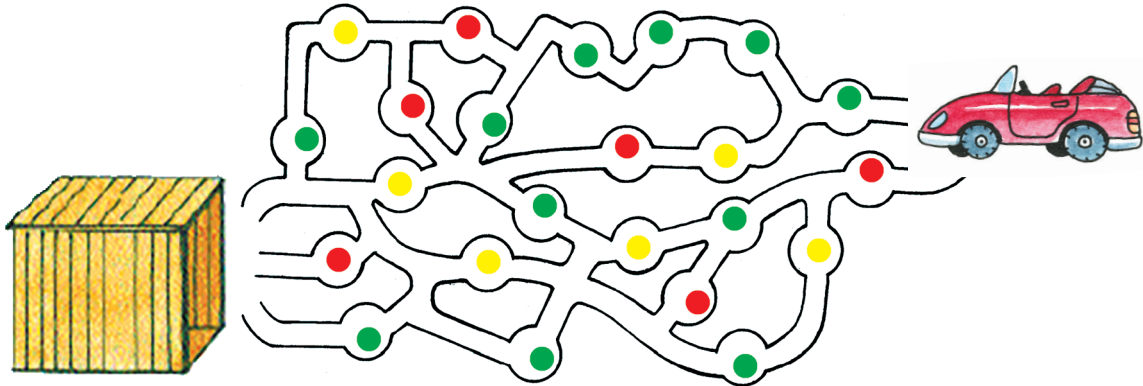


1

По какой дороге должен проехать автомобиль до гаража, если он будет двигаться только на зелёный свет светофора? Отметь его путь зелёным карандашом.



2

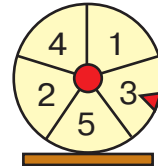
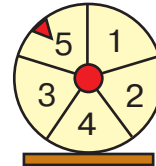
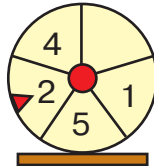

Медведь, Алёнушка и Змей Горыныч участвуют в телепередаче «Поле чудес». Сколько баллов получил каждый сказочный герой? Сколько всего баллов они заработали? Запиши ответ. Какие призы получают медведь, Алёнушка и Змей Горыныч? Всего  баллов.

**ПРИЗЫ:**

2 балла –

3 балла –

5 баллов –





3

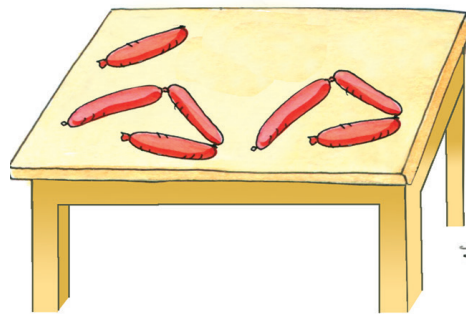
Какие ошибки допустил художник?




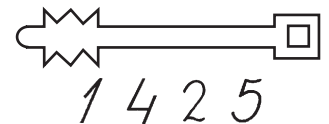
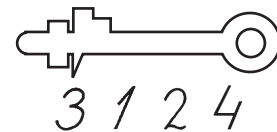
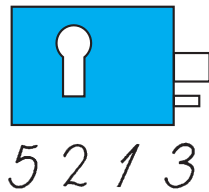
21 Что должно быть в пустых квадратах? Нарисуй.



22 На столе лежало 10 сосисок. Сколько сосисок кот съел?  Сколько сосисок осталось?



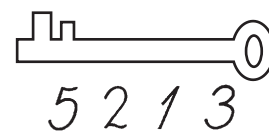
23 Чтобы ключ подошёл к замку, у них должны быть одинаковые номера. Раскрась ключи таким же цветом, как и замки, к которым они подходят.



1 4 2 5



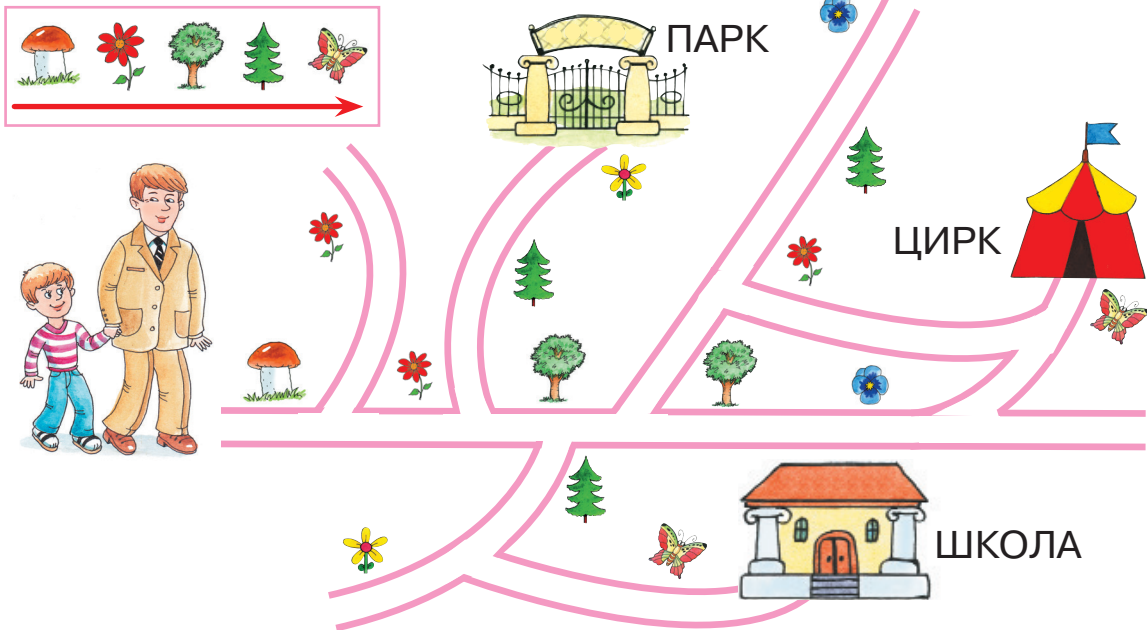
3 1 2 4



24

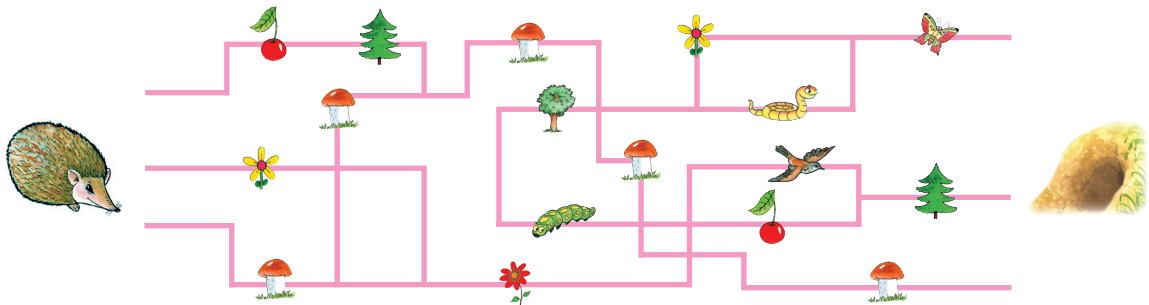
Куда придут папа с Колей, если они будут двигаться по плану? Отметь их дорожку синим карандашом.

ПЛАН



25

По дороге в норку ёжик должен собрать все грибы. Отметь его путь оранжевым карандашом.



26

Используя шифр, расшифруй клички щенка и котёнка.

ШИФР

- △ — Р
- — А
- — К
- ▭ — М
- — У


○	▭	□	○

▭	○	△	□	○



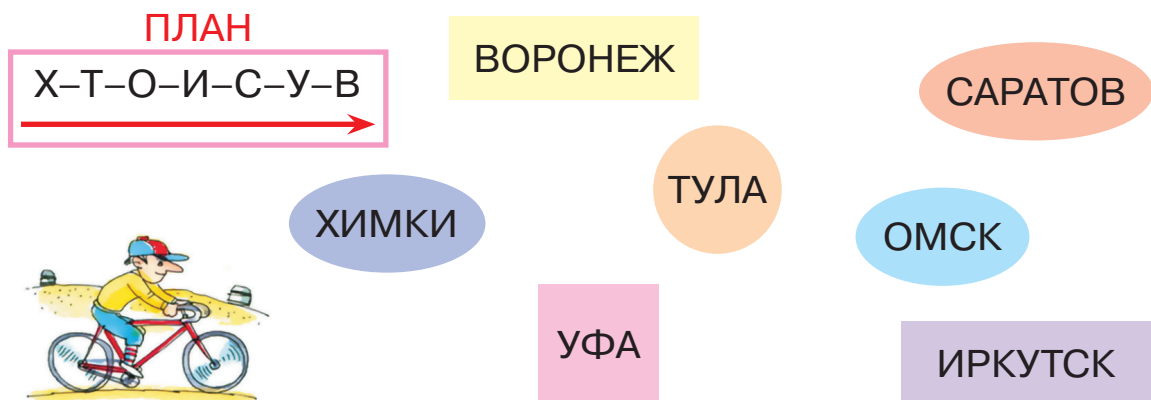
36

Покажи и назови того, кто сидит в доме, кто заходит в дом, кто выходит из него, кто стоит за ним, кто перед ним.



37

Велосипедист движется по плану. Через какие города он проедет? Назови конечный пункт его путешествия. Отметь его путь чёрным карандашом.



38

Сколько временных частей суток? Назови их последовательно. Какое время суток сейчас? Какое будет потом? Какое было раньше? Что ты делаешь утром, днем, вечером, ночью? Рассмотрни картинки. Какое время суток изображено на каждой из них? Чем отличается день от ночи, утро от вечера?

