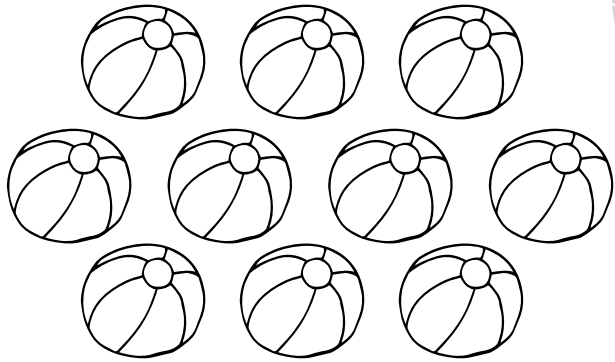


ДЕСЯТЬ

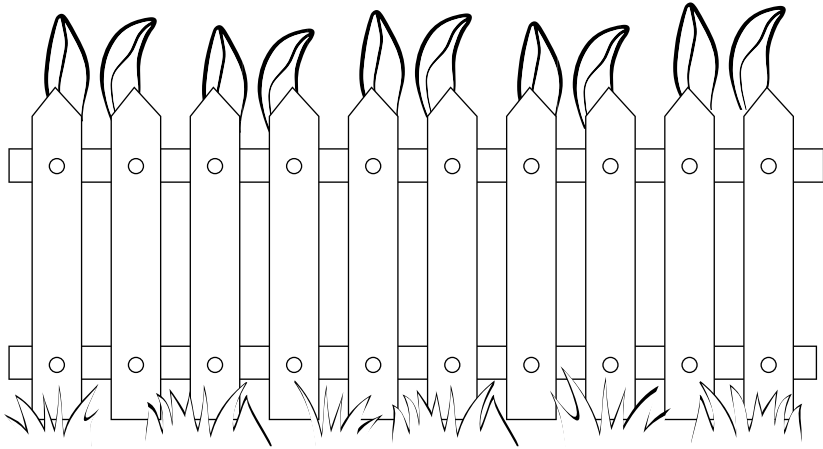


10	10	10	10	10	10
10	10	10	10	10	10
10	10	10	10	10	10
10	10	10	10	10	10
10	10	10	10	10	10
10	10	10	10	10	10



5

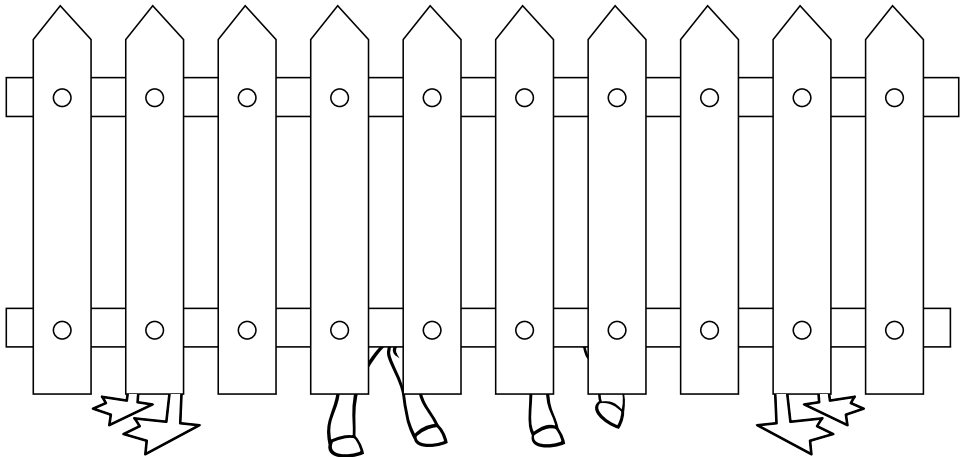
Сосчитай уши. Составь и запиши пример.
Сколько зайцев за забором?



$$\square + \square + \square + \square + \square = \square$$



7

Сосчитай ноги и лапы. Составь и запиши
пример. Сколько животных за забором?

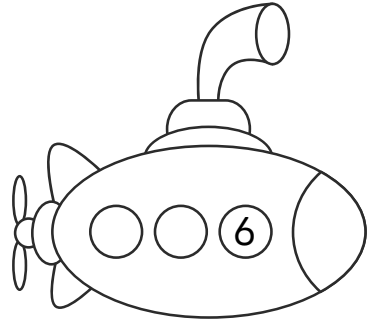

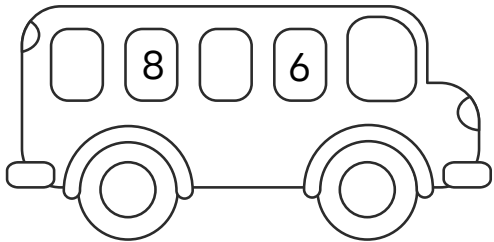
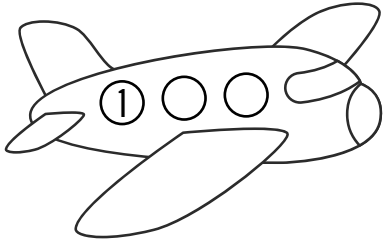


$$\square + \square + \square = \square$$

Сосчитай в прямом и обратном порядке.
Впиши пропущенные числа.



Впиши соседние числа.



7
0
9
1
4
2
5
8
9
3
7
5
1
4