



Цветение

Почти все цветы в букетах делятся на одно и то же число. Найди в каждом букете цветок, который отличается от остальных.



Обратные Заклинания

Чтобы превратить лягушек в принцев, волшебник должен применить контрзаклинание. Реши все уравнения и узнай начальный номер каждого принца.



Принц Свен

$$_ + 3 : 3 \times 2 = 10$$



Принц Роджер

$$_ - 4 \times 4 : 3 = 8$$



Принц Карлос


$$_ : 5 + 3 \times 2 = 16$$




КОСМИЧЕСКИЕ ДЕНЬГИ

Инопланетяне остановились на галактической заправке, чтобы купить батарейки для своего космического корабля. Батарейки стоят 4 астродоллара.


У инопланетян есть 100 солнечных монет и 80 лунных монет. Посмотри на табло, чтобы понять, сколько батареек они могут купить.



Батарейка = 4 астродоллара



1 астродоллар = 5 солнечных
МОНЕТ



1 астродоллар = 20 лунных монет