

СОДЕРЖАНИЕ

ЧИСЛА 2, 3

Тест 1	3
Тест 2	6
Тест 3	8

ЧИСЛО 4

Тест 4	9
Тест 5	11
Тест 6	12

ЧИСЛО 5

Тест 7	13
Тест 8	14
Тест 9	15

ЧИСЛО 6

Тест 10	17
Тест 11	18
Тест 12	19

ЧИСЛО 7

Тест 13	20
Тест 14	21
Тест 15	22

ЧИСЛО 8

Тест 16	23
Тест 17	24
Тест 18	25

ЧИСЛО 9

Тест 19	26
Тест 20	27
Тест 21	28

ЧИСЛО 10

Тест 22	29
Тест 23	30
Тест 24	31

ЧИСЛА 1—10

Тест 25	32
Тест 26	33
Тест 27	34
Тест 28	35

ПРИБАВЛЕНИЕ И ВЫЧИТАНИЕ ЧИСЛА 1

Тест 29	36
Тест 30	37
Тест 31	38
Тест 32	38

ПРИБАВЛЕНИЕ И ВЫЧИТАНИЕ ЧИСЛА 2

Тест 33	39
Тест 34	40
Тест 35	41
Тест 36	42

ПРИБАВЛЕНИЕ И ВЫЧИТАНИЕ ЧИСЛА 3

Тест 37	43
Тест 38	43
Тест 39	44
Тест 40	45

ПРИБАВЛЕНИЕ И ВЫЧИТАНИЕ ЧИСЛА 4

Тест 41	46
Тест 42	47
Тест 43	48
Тест 44	48

ПЕРЕСТАНОВКА СЛАГАЕМЫХ. ПРИБАВЛЕНИЕ ЧИСЕЛ 5, 6, 7, 8, 9. КОМПОНЕНТЫ СЛОЖЕНИЯ И ВЫЧИТАНИЯ

Тест 45	49
Тест 46	51
Тест 47	52
Тест 48	53
Тест 49	54

ЧИСЛО 11

Тест 50	55
Тест 51	56
Тест 52	57
Тест 53	57

ЧИСЛО 12

Тест 54	58
Тест 55	59
Тест 56	60
Тест 57	61

ЧИСЛО 13

Тест 58	62
Тест 59	63
Тест 60	63
Тест 61	64

ЧИСЛО 14

Тест 62	65
Тест 63	66
Тест 64	67
Тест 65	68

ЧИСЛО 15

Тест 66	69
Тест 67	70
Тест 68	71
Тест 69	71

ЧИСЛА 16, 17, 18

Тест 70	72
Тест 71	73
Тест 72	74
Тест 73	75

**ПОВТОРЕНИЕ ИЗУЧЕННОГО
В 1 КЛАССЕ**


Тест 74	76
Тест 75	77
Тест 76	78
Тест 77	79

ОТВЕТЫ..... 80

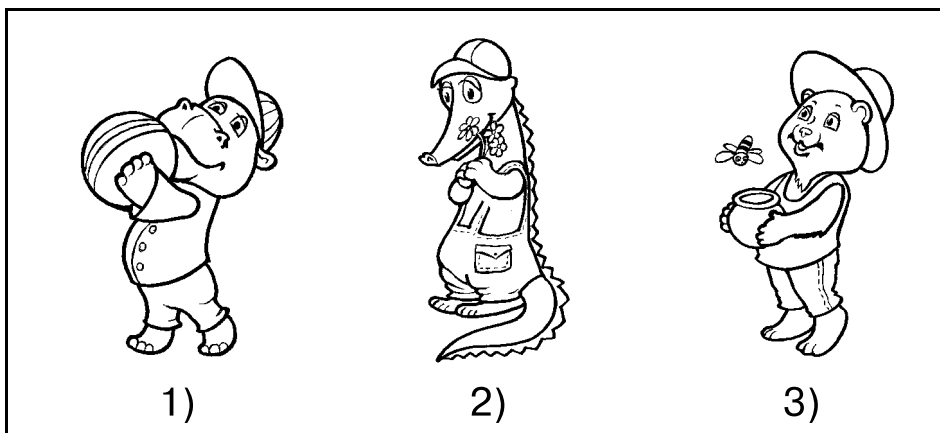
Числа 2, 3

Тест 1


1. Кто сидит справа от зайчика? Отметь число.




2. Кто стоит последним? Отметь число.




3. О ком можно сказать, что он стоит между ними? Отметь число.




4. Кто больше? Отметь число.




5. Кто впереди? Отметь число.



6. Что расположено дальше от нас? Отметь число.



7. Сколько мышек? Выбери верный ответ.



1) 2

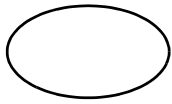
2) 1

3) 3

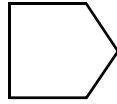
8. Закрась столько кружочков, сколько лапок у цыплёнка.

1) ○○ 2) ○ 3) ○○○

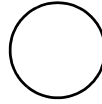
9. Закрась овал.



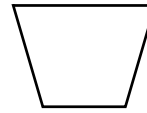
1)



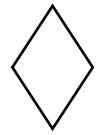
2)



3)



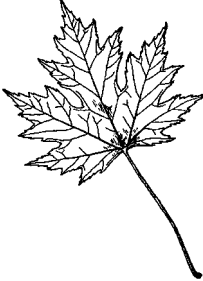
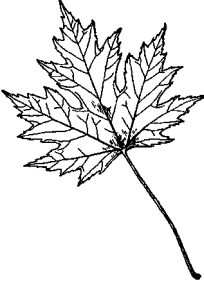



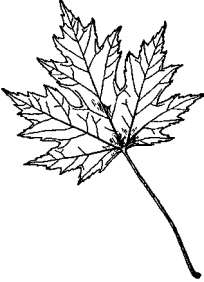


4)



5)

10. Найди недостающее.



1)




2)




3)

Тест 2


1. Кто находится слева от петуха? Отметь число.



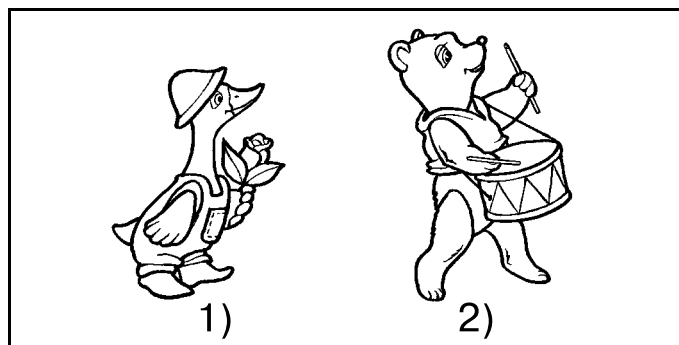
2. Кто стоит первым? Отметь число.




3. Кто меньше? Отметь число.




4. Кто позади? Отметь число.



5. Кто расположен ближе к нам? Отметь число.

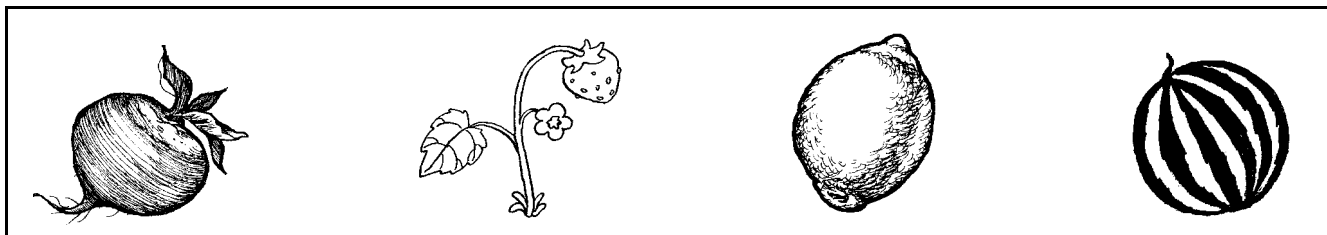


6. Сколько клоунов? Отметь число.



1) 1 2) 2 3) 3

7. Какие предметы жёлтого цвета?

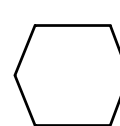
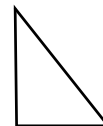


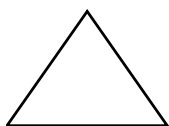


1) 2) 3) 4)

8. Какое число предыдущее для числа 2?

1) 1 2) 3

9. Закрась треугольники.




1) 2) 3) 4) 5)

10. В каких примерах надо поставить знак «меньше»?

1) 3 ... 2 2) 1 ... 3 3) 2 ... 1 4) 3 ... 1 5) 2 ... 3

Тест 3

1. Кто сидит правее тигрёнка? Отметь число.




2. Продолжи. Выбери орнамент.

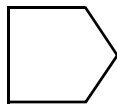


- 1) $\diamond \circ \diamond$ 2) $\circ \diamond \diamond \diamond$ 3) $\circ \diamond \circ \diamond \diamond \diamond$

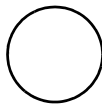
3. Закрась круг.



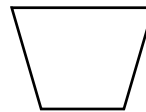
1)



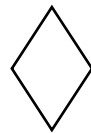
2)



3)




4)



5)

4. Сколько бабочек нарисовано? Выбери число.



- 1) 1 2) 2 3) 3

5. 3 — это 1 и ...

- 1) 1 2) 2 3) 3

6. Какое число предыдущее для числа 3?

- 1) 1 2) 2