

УДК 373.3.016:51  
ББК 74.262.21  
Р83

Руководитель проекта — чл.-корр. РАО, проф. *Н.Ф. Виноградова*

---

**Рудницкая В.Н.**  
Р83 Математика : 2 класс : дидактические материалы : в 2 ч. Ч. 1 /  
В.Н. Рудницкая. — 3-е изд., стереотип. — М. : Вентана-Граф, 2019. —  
96 с. : ил. — (Российский учебник).

ISBN 978-5-360-10119-2 (ч. 1)  
ISBN 978-5-360-10118-5 (общ.)

Пособие включено в систему «Начальная школа XXI века». Содержит разнообразные задачи и упражнения по основным содержательным линиям программы по математике для 2 класса. Предлагаемые материалы помогут учителю организовать работу по совершенствованию и развитию математических знаний учащихся.

Может использоваться на уроках, во внеурочной и индивидуальной работе с учащимися, а также во время домашней работы.

Задания для повышения уровня математической подготовки учащихся и упражнения развивающего характера отмечены знаком \*.

Соответствует Федеральному государственному образовательному стандарту начального общего образования (2009 г.).

УДК373.3.016:51  
ББК 74.262.21

---



Авторский коллектив комплекта учебно-методических пособий  
«Начальная школа XXI века»  
удостоен премии Президента Российской Федерации  
в области образования

ISBN 978-5-360-10119-2 (ч. 1)  
ISBN 978-5-360-10118-5 (общ.)


© Рудницкая В.Н., 2005  
© Издательский центр «Вентана-Граф», 2005  
© Рудницкая В.Н., 2008, с изменениями  
© Издательский центр «Вентана-Граф», 2008, с изменениями

# Числа и вычисления


## Счёт десятками в пределах сотни

1. Пересчитайте предметы десятками, называя их число: один десяток, два десятка, три десятка и т. д.  
Сколько десятков:


1) горошин в стручках;



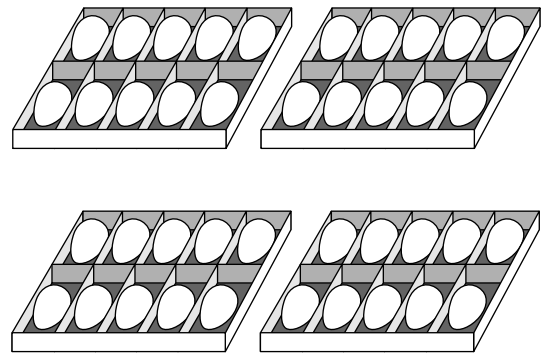
2) лепестков у ромашек;



3) редисок в пучках;



4) яиц в коробках?




2. Сколько десятков рублей стоит блузка?



д.


3. Сколько десятков предметов изображено на рисунке? Выделите каждый десяток цветным карандашом. Пересчитайте десятки и запишите их число.

1)




д.

2)




д.

3)



д.

4)



д.

4. Посчитайте десятками по порядку: от одного десятка до пяти десятков; от пяти десятков до десяти десятков.
5. В каждую из девяти коробок положили 10 пряников. Сколько десятков пряников во всех коробках?
6. В шести букетах по 10 нарциссов. Сколько десятков нарциссов во всех букетах?
7. У одного коллекционера 3 десятка марок, а у другого 5 десятков марок. Сколько десятков марок у обоих коллекционеров?
8. В холодильнике было 2 десятка яиц. Купили и положили в холодильник ещё столько же яиц. Сколько десятков яиц стало в холодильнике?
9. У Маши 8 десятков тетрадей. Из них 5 десятков тетрадей в клетку, а остальные тетради — в линейку. Сколько десятков тетрадей в линейку у Маши?
10. С грядок сняли 7 десятков огурцов. Засолили 6 десятков огурцов. Сколько десятков огурцов осталось?

11. Что больше: 8 десятков или 6 десятков; 2 десятка или 4 десятка?  
Что меньше: 7 десятков или 3 десятка; 8 десятков или 10 десятков?

12. Найдите сумму или разность десятков.

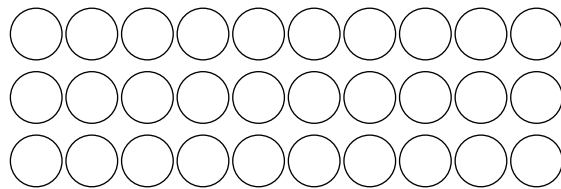
$$\begin{array}{ll} 8 \text{ д.} + 1 \text{ д.} & 9 \text{ д.} - 5 \text{ д.} \\ 3 \text{ д.} + 4 \text{ д.} & 7 \text{ д.} - 6 \text{ д.} \end{array}$$

13. Отсчитайте слева направо один десяток фишек и закрасьте их жёлтым цветом. Пересчитайте оставшиеся фишки, закрасьте их красным цветом. Сколько всего десятков фишек закрашено?



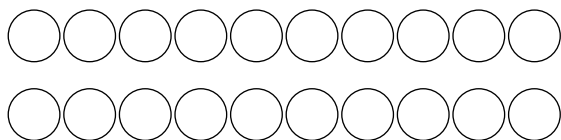
14. Дорисуйте ещё по 3 десятка фишек. Пересчитайте все фишки десятками и запишите их число.

1)



д.

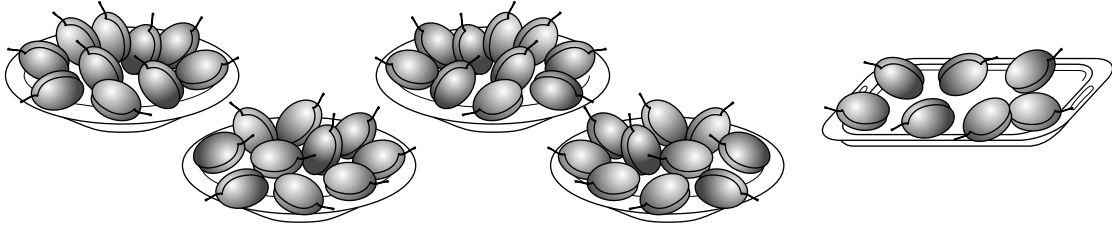
2)



д.

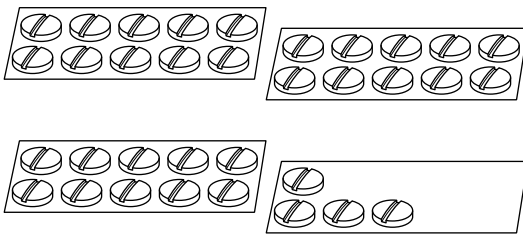
## Счёт десятками и единицами

1. Сколько десятков слив на всех тарелках и сколько слив лежит на подносе?




2. Сколько предметов изображено на каждом рисунке? Назовите число десятков и единиц.

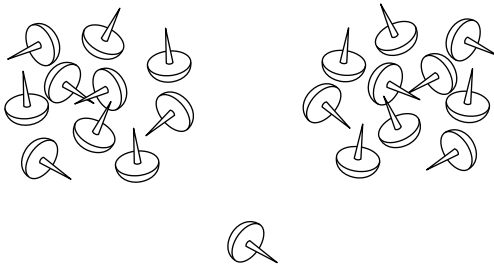
1)



2)



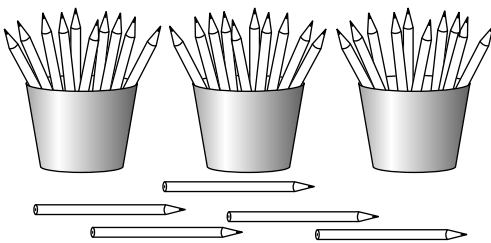
3)



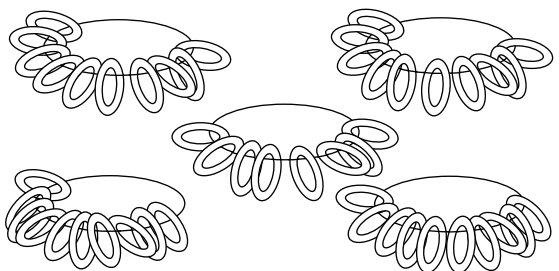
4)



5)



6)



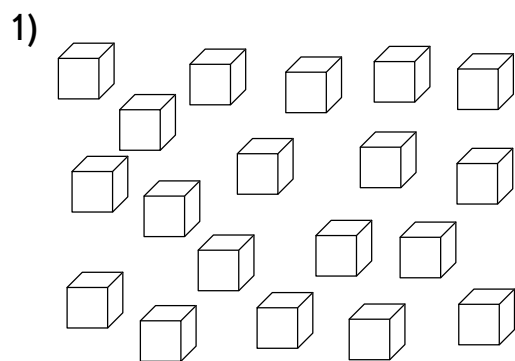
3. Прочитайте, сколько десятков и единиц в записях чисел.

5 д. 8 ед.      6 д. 6 ед.      9 д. 0 ед.  
8 д. 5 ед.      1 д. 7 ед.      1 д. 0 ед.


4. При ответе на вопрос задачи называйте число десятков и единиц.

- 1) Купили 3 букета по 10 гвоздик и ещё 7 гвоздик. Сколько всего гвоздик купили?
- 2) На верхней полке 4 блюда, а на нижней 3 десятка блюд. Сколько блюд на обеих полках?
- 3) С огорода Маша принесла 9 кабачков, а Петя с Серёжей — по 10 кабачков. Сколько кабачков дети принесли с огорода?
- 4) Для постройки дома Наф-Наф принёс 5 кирпичей, Ниф-Ниф — 4 кирпича, а Нуф-Нуф — 9 десятков кирпичей. Сколько кирпичей принесли поросята?

5. Обведите цветным карандашом каждый десяток предметов. Запишите число десятков и единиц.




д.  ед.



д.  ед.



д.  ед.



д.  ед.

6. Сравните устно.

5 д. 3 ед. и 8 д. 3 ед.  
7 д. 6 ед. и 7 д. 4 ед.

1 д. 9 ед. и 2 д. 0 ед.  
3 д. 5 ед. и 4 д. 1 ед.

7. Выполните действия.

6 д. 7 ед. + 1 д. 2 ед.  
3 д. 5 ед. + 4 д. 0 ед.

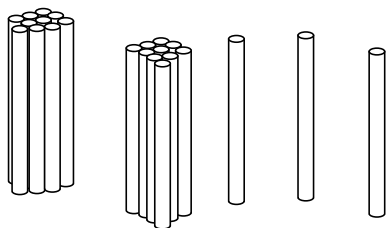
8 д. 8 ед. - 6 д. 0 ед.  
9 д. 5 ед. - 0 д. 3 ед.

8. Назовите следующие пять записей чисел:

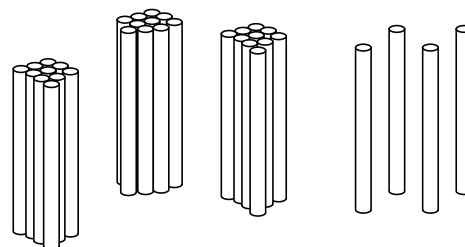
7 д. 2 ед., 7 д. 3 ед., ...  
8 д. 4 ед., 8 д. 5 ед., ...

9. Сколько палочек нужно дорисовать на каждом из рисунков, чтобы на нём стало полное число десятков?

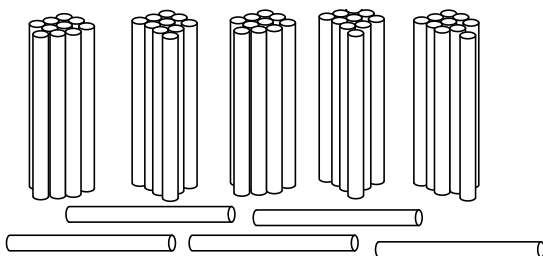
1)



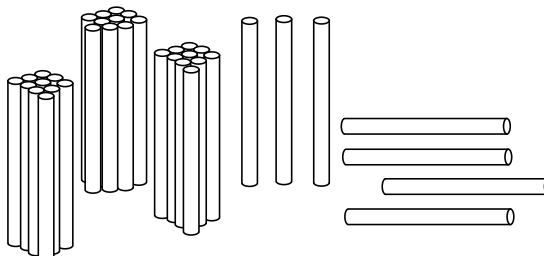
2)



3)




4)



10. Дорисуйте столько предметов, чтобы на каждом из рисунков их стало 3 десятка.

1)



2)

