

УДК 373.3.016:51
ББК 74.262.21
М34

Минаева С.С.

М34 Математика : 2 класс : рабочая тетрадь № 1 / С.С. Минаева, Е.Н. Зяблова. — 4-е изд., стереотип. — М. : Вентана-Граф, 2019. — 48 с. : вкл. : ил. — (Российский учебник).
ISBN 978-5-360-10718-7

Тетрадь содержит различные виды упражнений на усвоение нового и повторение ранее изученного материала, на отработку навыков устного счёта, задания развивающего характера.

Тетрадь используется в первом полугодии 2 класса в комплекте с учебником «Математика. 2 класс» (авторы С.С. Минаева, Л.О. Рослова, О.А. Рыдзе).

Соответствует Федеральному государственному образовательному стандарту начального общего образования (2009 г.).

УДК 373.3.016:51
ББК 74.262.21

ISBN 978-5-360-10718-7

© Минаева С.С., Зяблова Е.Н., 2010
© Издательский центр «Вентана-Граф», 2010
© Минаева С.С., Зяблова Е.Н., 2011, с изменениями
© Издательский центр «Вентана-Граф», 2011, с изменениями

В театре

1. Пригласи своих друзей на семейный концерт. Впиши их имена в пригласительные билеты.

Имя	
Ряд	1
Место	3

Имя	
Ряд	2
Место	5

Имя	
Ряд	2
Место	2

Впиши в таблицу имена согласно билетам.

Ряд	Место				
	1	2	3	4	5
1					
2					

На твоём билете написано: ряд 2, место 5. Кто сидит рядом с тобой? _____

2. Выполни действие и впиши в клетку таблицы соответствующую букву.

Н
$8 + 4$

О
$9 + 5$

И
$11 - 4$

Ь
$7 + 3$

А
$12 - 3$

Д
$13 - 2$


Т
$13 - 7$

Ц
$11 - 3$

14	11	7	12	12	9	11	8	9	6	10

Натуральный ряд

1. Соединяя числа в порядке возрастания, покажи, как шли ребята к загородному домику.



2. Расшифруй и запиши предложение, в котором каждая буква заменена её номером в русском алфавите.

14	1	20	6	14	1	20	10	12	1	—	24	1	18	10	24	1
										—						

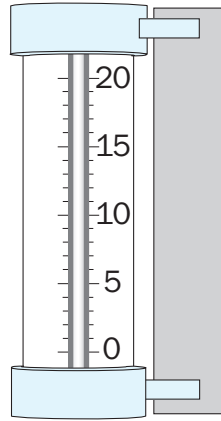
15	1	21	12	.
				.

А	Б	В	Г	Д	Е	Ё	Ж	З	И	Й	К	Л	М	Н	О	П
1	2	3	4	5	6	7	8	9	10	11	12	13	14	15	16	17

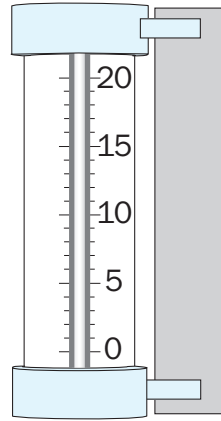
Р	С	Т	У	Ф	Х	Ц	Ч	Ш	Щ	Ъ	Ы	Ь	Э	Ю	Я
18	19	20	21	22	23	24	25	26	27	28	29	30	31	32	33

Шкала термометра

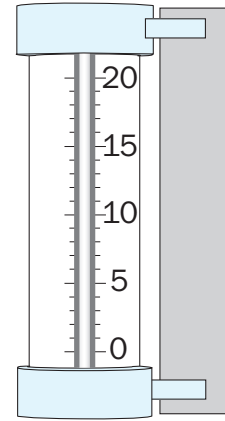
1. Закрась шкалу каждого термометра так, чтобы он показывал указанную температуру.



20 градусов



5 градусов



10 градусов

2. Впиши пропущенные числа.

$10 + \square = 13$

$\square + 8 = 13$

$\square + 6 = 13$

$7 + \square = 13$

$9 + \square = 13$

$\square + 5 = 13$

3. Аня, Оля и Зоя раскрасили 11 звёзд. Аня раскрасила звёзд меньше Оли, а Оля меньше Зои. Сколько звёзд могла раскрасить каждая девочка? Запиши решения в таблицу.

Имя	Раскрашено звёзд					
Аня	1					
Оля	2					
Зоя	8					

Покажи одно из решений на рисунке.

