



УДК 373.167.1:94
ББК 63.3я72
В67

Условные знаки:

-  — личностные качества;
 — метапредметные результаты.

Волкова, Е. В.
В67 Всеобщая история : История Нового времени. 7 кл. : рабочая тетрадь с контурными картами к учебнику В. А. Ведюшкина, С. Н. Бурина / Е. В. Волкова, М. В. Пономарев. — 4-е изд., стереотип. — М. : Дрофа, 2017. — 61, [3] с. : ил., карт.

ISBN 978-5-358-18620-0

Рабочая тетрадь входит в состав УМК по всеобщей истории В. А. Ведюшкина, С. Н. Бурина и соответствует ФГОС основного общего образования. Тетрадь также может использоваться с учебником, соответствующим Федеральному компоненту государственного образовательного стандарта. Помимо тетради в состав УМК входят электронное приложение к учебнику и методическое пособие.

Бесплатный доступ к электронному приложению можно получить на сайте drofa-ventana.ru.

Специальными значками отмечены задания, направленные на формирование метапредметных умений (планировать деятельность, выделять различные признаки, сравнивать, классифицировать, устанавливать причинно-следственные связи, преобразовывать информацию и др.) и личностных качеств учеников.

УДК 373.167.1:94
ББК 63.3я72

ISBN 978-5-358-18620-0

© Е. В. Волкова, М. В. Пономарев, 2014
© ООО «ДРОФА», 2014

ТЕМА 1. ЕВРОПА И МИР В ЭПОХУ ВЕЛИКИХ ГЕОГРАФИЧЕСКИХ ОТКРЫТИЙ

1. Установите соответствие между названием документа и его содержанием.

Документ	Содержание
А) «Рассуждение о причинах, почему Англия должна принять участие в новых открытиях» Роберта Торна	1) Во имя Пресвятой Троицы, внушившей мне мысль и впоследствии совершенно прояснившей её для меня, что я могу, отплыв из Испании на запад и переплыв океан, достигнуть Индии, — мысль, сообщённую мною королю дону Фердинанду и королеве донне Изабелле, государям нашим, которым благоугодно было снабдить меня потребным количеством людей и кораблей и возвести меня в звание адмирала названного океана на всём его пространстве, лежащем к западу...
Б) Отчёт о плавании Васко да Гамы	2) Испанцы открыли всю Индию и западные моря, а португальцы — всю Индию и восточные моря. Этой частью Востока и Запада они, таким образом, охватили весь мир, так как, выехав одни по направлению к востоку, а другие — по направлению к западу, они встретились на крайнем юге... Теперь остаётся открыть только упомянутые северные области, что, как мне кажется, является исключительно Вашим долгом, потому что Ваше королевство расположено ближе и удобнее для этого, чем все другие, а также потому, что Вы уже начали это дело...
В) Письмо Христофора Колумба королю и королеве Испании	3) 1 марта 1498 г. к вечеру мы увидели острова и материк, но отложили обследование до следующего дня... Люди здесь коричневые, хорошего сложения, говорят по-маврски. Платье их из льна и хлопчатой бумаги, весьма тонкое, многоцветное, с полосками, отличной работы; все носят тюрбаны с шёлковой каймой и золотой пронитью. Занимаются они торговлей и дела ведут с белыми маврами...

А	Б	В

2. Отметьте основные причины Великих географических открытий.

- 1) поиск морских путей в страны Востока
- 2) полное истощение почв в Европе
- 3) появление новых навигационных приборов
- 4) истощение месторождений золота и серебра в Европе

- 5) появление подробных карт Земли
- 6) вытеснение европейцев с торговых путей турками-османами
- 7) рост городов, развитие ремесла и торговли
- 8) поиск новых источников богатства
- 9) изобретение компаса
- 10) упадок торговли по Великому шёлковому пути
- 11) организация научных экспедиций академиями наук европейских стран

3. Соотнесите события и даты.

События	Даты
А) путешествие Васко да Гамы	1) 1519—1522 гг.
Б) открытие Америки Христофором Колумбом	2) 1642—1644 гг.
В) плавания Абеля Тасмана	3) 1500 г.
Г) открытие Бразилии португальцами	4) 1492 г.
Д) кругосветное путешествие Фернана Магеллана	5) 1497—1499 гг.
Е) путешествие Бартоломеу Диаша	6) 1519—1521 гг.
Ж) завоевание Мексики испанцами	7) 1497 г.
З) путешествие Джона Кабота	8) 1488 г.

А	Б	В	Г	Д	Е	Ж	З

4. Отметьте правильный вариант продолжения фразы.

- | | |
|---|---|
| 1) Эпохой Великих географических открытий называют период | <ul style="list-style-type: none"> А) с конца XV до середины XVII в. <input type="checkbox"/> Б) XVI в. <input type="checkbox"/> В) с начала XV до конца XVI в. <input type="checkbox"/> |
| 2) Имя португальского принца, организовавшего морские экспедиции, — | <ul style="list-style-type: none"> А) Бартоломеу Диаш <input type="checkbox"/> Б) Энрике Мореплаватель <input type="checkbox"/> В) Фердинанд Арагонский <input type="checkbox"/> |
| 3) Открытие Америки стало | <ul style="list-style-type: none"> А) главным доказательством того, что Земля круглая <input type="checkbox"/> Б) завершающим этапом в борьбе европейцев с древнейшими индейскими цивилизациями <input type="checkbox"/> В) началом освоения европейцами Нового Света <input type="checkbox"/> |
| 4) Васко да Гама известен как мореплаватель, который | <ul style="list-style-type: none"> А) впервые проложил морской путь из Европы в страны Востока <input type="checkbox"/> Б) совершил первое кругосветное путешествие <input type="checkbox"/> В) впервые добрался до Южной Америки <input type="checkbox"/> |

5) Самая большая колониальная империя XVI в. —

- А) Португалия
- Б) Англия
- В) Испания

5. Соотнесите термины и определения.

Термины	Определения
А) каравелла	1) прибор, служивший для определения положения небесных светил и ориентации в море
Б) колония	2) лёгкий быстроходный корабль, который мог идти против ветра
В) конкиста	3) исключительное право на торговлю или производство какого-либо товара
Г) астролябия	4) завоевание европейцами Нового Света
Д) монополия	5) заморские владения европейских стран

А	Б	В	Г	Д

6. Отметьте цифрами европейские страны, которые в XVI—XVII вв. создавали колонии в: 1 — Северной Америке, 2 — Центральной и Южной Америке.

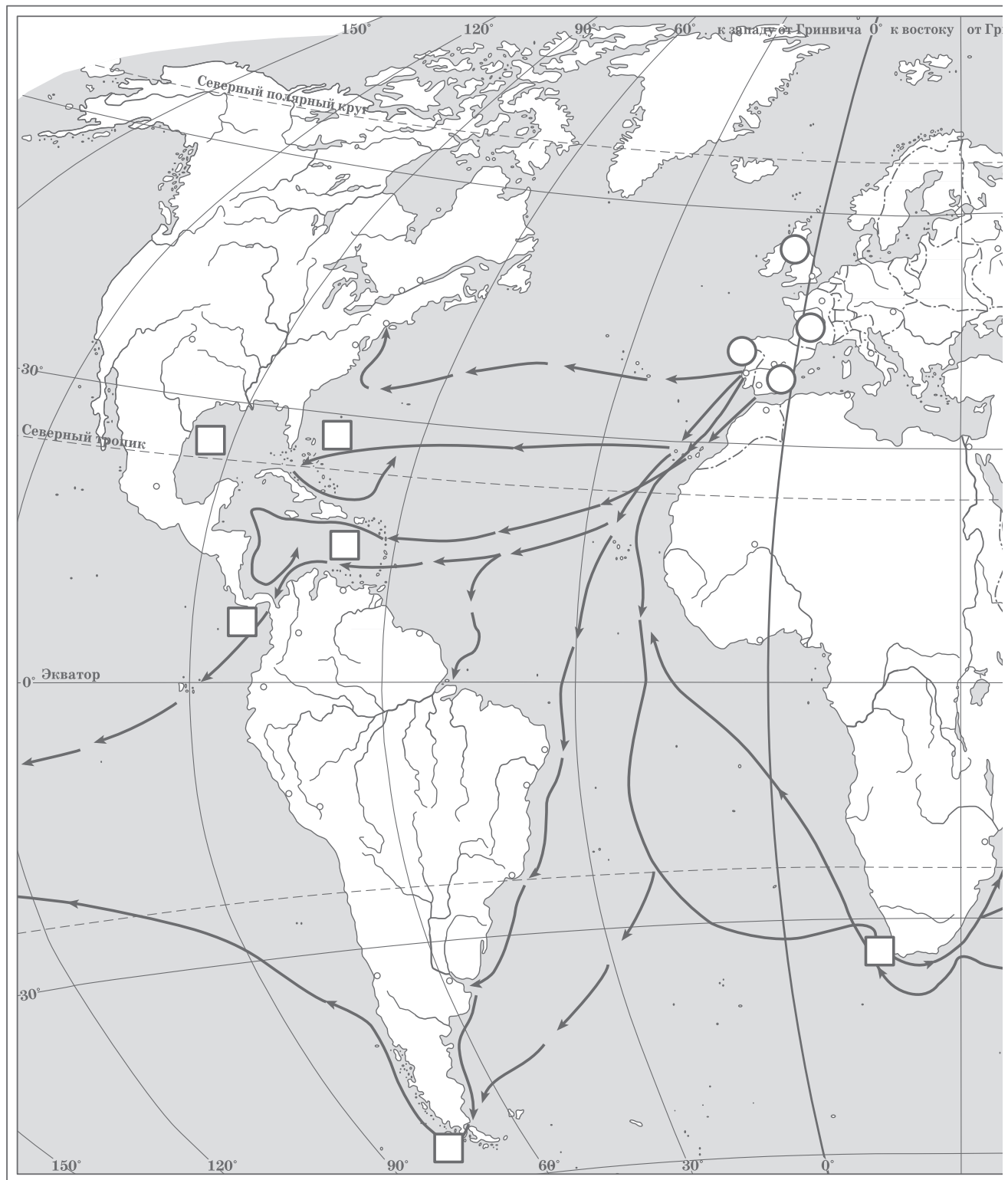
- 1) Испания
- 2) Португалия
- 3) Франция
- 4) Голландия
- 5) Англия

7. Прочитайте отрывок из документа и напишите, о каком событии идёт речь.

Единственная и истинная причина того, почему христиане разорили и уничтожили множество ни в чём не повинных людей, — это желание захватить их золото. Христиане хотели за короткое время обогатиться их сокровищами и возвыситься над своим сословием. Я должен заметить, что это произошло от неуёмной жадности и спеси, каких не найдёшь в целом мире, и также из-за желания осесть на богатых и плодородных землях, жители которых так легко, смиренно и терпеливо поддавались порабощению. Христиане щадили индейцев значительно меньше, видит Бог, значительно меньше, чем свой скот, они обращались с ними свирепее.

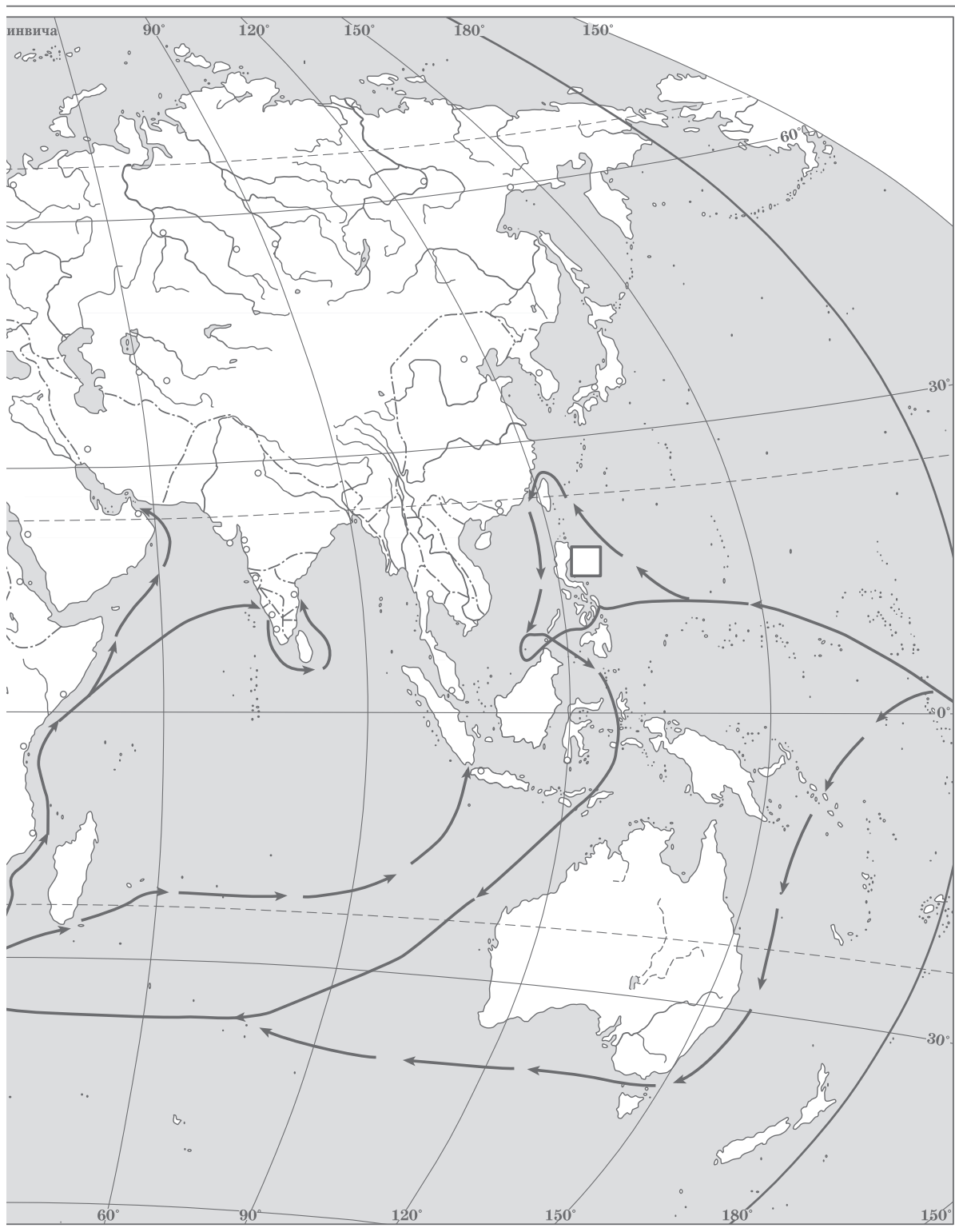
Ответ: _____

Великие географические открытия



1. Обведите красным цветом стрелки, обозначающие маршрут Васко да Гамы, синим — Фернана Магеллана, зелёным — Христофора Колумба, чёрным — Бартоломеу Диаша.

2. Обозначьте буквами в квадратах земли, открытые в эпоху Великих географических открытий: А — мыс Доброй Надежды, Б — Багамские острова,



В — Магелланов пролив, Г — Карибское море, Д — Мексиканский залив,
 Е — Панамский перешеек, Ж — Филиппинские острова.
 3. Обозначьте цифрами в кружках крупнейшие колониальные державы:
 1 — Испания, 2 — Португалия, 3 — Англия, 4 — Франция.